

平成 25 年度入学者選抜学力検査問題

社 会

注 意

- 1 監督者の「始め」の合図があるまでは、開いてはいけません。
- 2 検査時間は、10時35分から11時20分までの45分間です。
- 3 大きな問題は全部で8問で、表紙を除いて7ページです。
また、別に解答用紙が1枚あります。
- 4 監督者の「始め」の合図があったら、すぐに受検番号をこの表紙と解答用紙のきめられた欄に書きなさい。
- 5 答えは、必ず解答用紙のきめられた欄に書きなさい。
また、特に指示のあるもののほかは、各問いの**ア**、**イ**、**ウ**、**エ**のうちから最も適当なものをそれぞれ一つ選んで、その記号を解答欄の()の中に書き入れなさい。
- 6 「に当てはまる語を書きなさい」などの問いについての答えは、一般に数字やカタカナなどで書くもののほかは、できるだけ漢字で書きなさい。
- 7 監督者の「やめ」の合図があったら、すぐやめて、筆記用具をおきなさい。

受 検 番 号

番

1 次の1, 2の問いに答えなさい。

1 次の(1)から(4)までの文中の [] に当てはまるのはどれか。

(1) 日本の面積は約 38 万 km² であり, 人口は約 [] 万人である (2010 年)。

ア 6200 イ 12800 ウ 31000 エ 122500

(2) 中国の [] の歴史書には, 倭に邪馬台国という有力な国があり, 女王卑弥呼が治めていたことなどが書かれている。

ア 秦 イ 殷 ウ 漢 エ 魏

(3) 織田信長は商工業を盛んにするために, [] を発し, 安土城下の商工業者に自由な営業を認めた。

ア 楽市・楽座令 イ 刀狩令 ウ 御成敗式目 エ 武家諸法度

(4) 国際連合の主要機関のうち, [] は, 年 1 回定期的に開催され, すべての加盟国に一国一票の権利が与えられている。

ア 国際司法裁判所 イ 安全保障理事会 ウ 経済社会理事会 エ 総会

2 次の(1)から(4)までの文中の [] に当てはまる語を書きなさい。

(1) 愛知県, 三重県, 岐阜県にまたがる [] 工業地帯では, 輸送機械の生産が盛んである。

(2) 太平洋上の 180 度の経線付近に引かれている [] 線を東から西へこえるときには, 日付を一日進ませる。

(3) 1789 年にフランス革命がおり, 同じ年, 自由, 平等, 国民(人民)主権などをうたう [] が発表された。

(4) 日本国憲法第 12 条では, 国民に保障する自由及び権利について, 「国民は, これを濫用してはならないのであって, 常に [] のためにこれを利用する責任を負ふ」と定めている。

2 次の文は, 「郷土」をテーマとする調べ学習で, 渚^{なぎさ}さんが発表用にまとめた原稿である。これを読んで, 1 から 4 までの問いに答えなさい。

私は栃木県の郷土料理「しもつかれ」について調べてみました。しもつかれは, 豆や鮭^{さけ}の頭, 細かく切った野菜や油揚げなどを大根おろしと煮た料理で, 地域によって様々な作り方があるようです。また, 農林水産省が選定した「農山漁村の郷土料理百選」にも選ばれています。

しもつかれの歴史について調べてみると, ①鎌倉時代につくられた『宇治拾遺物語』の中に「すむつかり」という料理が登場し, これがしもつかれのルーツではないかと読んだ本には書いてありました。県内には②江戸時代に広まったようです。昔は, 季節の変わり目である節分には災いが寄ってくると信じられていたので, 鬼を災いと見立てて豆をまき, 無^む病^{びょう}息災^{そくさい}を祈願して, まいた豆をしもつかれに入れるようになったのではないかと, とも書いてありました。地域によっては, 今でもしもつかれを 2 月最初の午^{うま}の日にあたる初午^{はつうま}の日を作る習慣があるようです。

今回, 調べてみて驚いたことは, しもつかれは栃木県だけではなく, 茨城県や群馬県の一部でも作られているということです。3 県は③利根川水系で結ばれているので, 食文化の面でも共通性がみられるのではないかと私は思いました。

④全線開通した北関東自動車道によって、3県はより身近な存在となりました。3県の絆きずながさらに深まればよいと感じました。

1 下線部④に関して、鎌倉時代を含む中世の農業について述べているのはどれか。

- ア 千歯こきなどの農具の改良が進み、肥料として干鰯ほしかが使用された。
- イ 二毛作などが普及して生産性が高まり、各地で定期市が開かれた。
- ウ 幕府などにより、海や沼地を干拓する大規模な新田開発が進んだ。
- エ 国家から口分田が与えられ、租という税が課せられた。

2 下線部⑤に関して、江戸時代後半には、ききんが続く中で、百姓一揆や、町人による図1のようなできごとが増加した。図1のようなできごとを何というか。

発生した年	発生した場所
天保7年 (1836年)	下野国 安蘇郡
できごと	
米価の上昇により生活に困った人々が、米屋6軒を襲った。	

図1

3 下線部⑥に関して、次の(1)、(2)の に当てはまる語を書きなさい。

- (1) 利根川は、雨水が川に流れ込む範囲の面積である 面積が、日本で最大である。
- (2) 渡良瀬川の下流にある渡良瀬遊水地には、湿地が広がっており、その保全が注目されている。自然環境を保全するために、日本では、地域開発にあたって、事前に自然環境に対する影響を調査し評価する が法律で義務づけられている。

4 下線部⑦に関して、渚さんは、北関東自動車道が全線開通する以前の3県間において、乗用車やタクシーを利用して旅行などを目的に他県へと移動した人々の数(2005年)を図2にまとめた。その後、渚さんは図3、図4を見て、全線開通した現在、茨城県と群馬県間の移動者数は増加しているのではないかと考えた。渚さんがそのように考えた理由を図2から読みとれる3県相互の移動者数の特徴を含めて簡潔に書きなさい。

(単位： 千人/年)		目的地		
		茨城県	栃木県	群馬県
出発地	茨城県	—	25380	1529
	栃木県	25392	—	17334
	群馬県	1530	17323	—

図2

(「第4回全国幹線旅客純流動調査」より作成)

	水戸・前橋間の移動時間
全線開通前 (一般道路利用)	約4時間30分
全線開通後 (北関東自動車道)	約2時間

図3

(「NEXCO 東日本ホームページ」により作成)

	全線開通後、群馬県に行きたいと答えた人	全線開通後、茨城県に行きたいと答えた人
北関東自動車道が全線開通する以前に、北関東自動車道を利用した人々に対するアンケート調査結果(県民別にまとめて表示)		

図4 (「NEXCO 東日本ホームページ」により作成)

3 A町に住む健太さんは、地図や統計資料などをもとに身近な地域の調査をした。これについて、次の1, 2の問いに答えなさい。

1 図1を見て、次の(1), (2), (3)の問いに答えなさい。

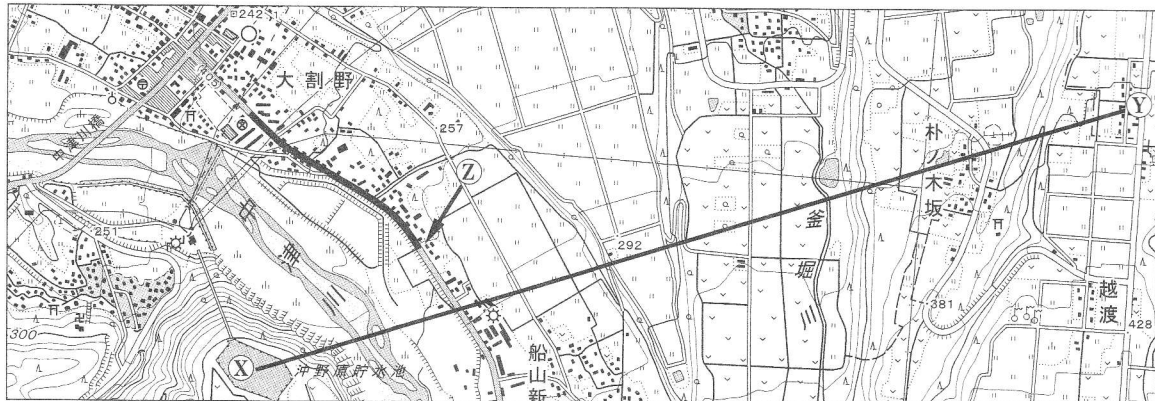
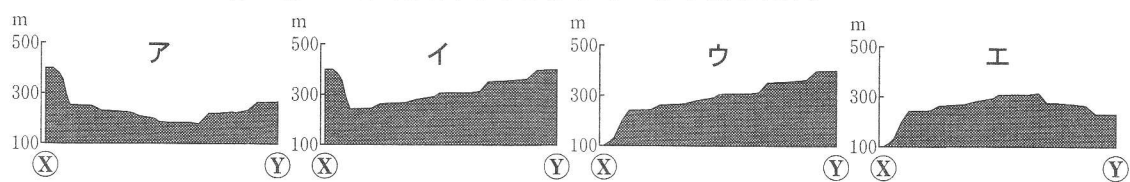


図1 (国土地理院発行2万5000分の1地形図により作成)

(1) 図1に示したX—Yの地形断面図をあらわしているのはどれか。



(2) 図1から読みとれることを正しく述べているのはどれか。

- ア 町役場から見て寺院は南南西にある。
- イ 郵便局から見て沖野原貯水池は北北東にある。
- ウ 釜堀川の東側には工業団地がある。
- エ 越渡の南側には茶畑がある。

(3) 健太さんの自宅の位置はZである。健太さんは——の経路で自宅から学校まで行った。この経路の地図上の長さは3cmである。実際の距離は何mか。

2 次の(1), (2)の問いに答えなさい。

(1) 図2は、A町と福島県いわき市の雨温図である。図2から読みとれることを正しく述べているのはどれか。

- ア 1月と8月の平均気温の差はA町の方が大きい。
- イ どちらも7月の平均気温が最も高い。
- ウ どちらも9月より6月の降水量の方が多い。
- エ 4月の降水量はA町の方が多い。

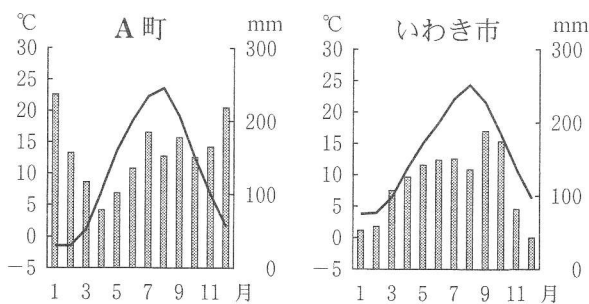


図2 (「気象庁ホームページ」により作成)

(2) A町の位置は、図3のア、イ、ウ、エのうちどれか。また、そのように判断した理由を図2から読みとり、「季節風」の語を用いて簡潔に書きなさい。

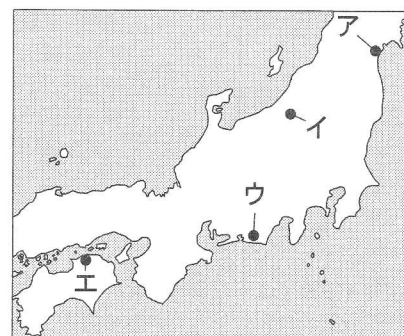



図3

4 次の1, 2, 3の問いに答えなさい。

1 図1を見て、次の(1), (2), (3)の問いに答えなさい。

- (1) 赤道の位置を正しく示しているのは、ア、イ、ウ、エのうちどれか。
- (2)  の地域は降水量が少なく、おもに砂漠が広がっている。この地域が属している気候帯は何か。
- (3) ▲はエベレスト山を示している。この山が属している造山帯は何か。

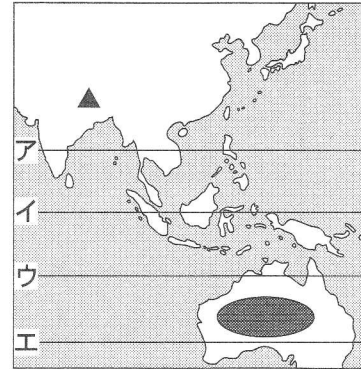


図1

2 図2は、鉄鉱石の産出量、鉄鋼(粗鋼)の生産量、鉄鉱石の輸出量と輸入量それぞれの上位5か国(2009年)を示したものである。図2から読みとれることを正しく述べているのはどれか。

順位	鉄鉱石の産出量(万t)		鉄鋼(粗鋼)の生産量(万t)		鉄鉱石の輸出量(万t)		鉄鉱石の輸入量(万t)	
1	中国	28000	中国	56784	オーストラリア	38052	中国	62818
2	オーストラリア	22800	日本	8753	ブラジル	26604	日本	10547
3	ブラジル	19920	ロシア	5994	インド	9075	韓国	4208
4	インド	15700	アメリカ	5814	南アフリカ	4456	ドイツ	2881
5	ロシア	5320	インド	5661	カナダ	3111	オランダ	2164
	世界計	111000	世界計	121972	世界計	92462	世界計	96198

図2 (「データブック オブ ザ ワールド」により作成)

- ア 日本では、鉄鋼の生産に必要な鉄鉱石をすべて国内で産出している。
- イ インドでは、自国で産出した鉄鉱石のすべてを国内で消費している。
- ウ 中国は、鉄鉱石の世界一の産出国であるが、世界一の輸入国でもある。
- エ オーストラリアの鉄鉱石の輸出量は、日本の輸入量の5倍以上である。
- 3 図3は、日本企業がアジアに進出して、2000年と2009年それぞれの年に現地で生産し販売した総額と、販売総額に占める地域別の割合をまとめたものである。アジアに進出した日本企業にとってのアジアの位置付けは、2000年と2009年では、どのように変化したと考えられるか。図3から読みとれることをふまえ、「消費地」の語を用いて簡潔に書きなさい。

	販売総額	販売総額に占める地域別の割合		
		アジア(日本を除く)	日本	アジア以外の地域
2000年	198980億円	66.2%	24.7%	9.1%
2009年	419920	77.0	17.3	5.7

図3 (「海外事業活動基本調査」により作成)

- 5 歴史好きの紫織^{しおり}さんは、栃木にゆかりのある人物について調べ、次のようなカードを作成した。これらを見て、1から5までの問いに答えなさい。

しょうどう
勝 道 上人

この人物は、㉔奈良時代に下野国芳賀郡で生まれ、下野国薬師寺で正式な僧侶となった。日光男体山の山頂に初めて登り、中禅寺湖のほとりに寺院を建てた。その後、朝廷から上野国^{こうずけ}の寺院を監督する役職に任じられた。

えんにん じかく
円 仁 (慈覚大師)

この人物は、下野国都賀郡で生まれ、少年時代は下野国で仏教の修行をした。15歳のとき比叡山に入り、㉕最澄の弟子となった。最澄の死後も天台宗の発展に尽くし、日本で初めて「大師」の称号を贈られた。

足利尊氏

この人物は、㉖後醍醐天皇に協力して鎌倉幕府をたおした御家人である。のちに天皇と対立し、京都に新たな幕府を開いた。現在の足利市付近は足利氏の先祖代々の領地であった。饒阿寺^{ばんな}は足利氏一門の氏寺として保護された。

徳川家光

この人物は、江戸幕府3代将軍である。祖父である徳川家康が祀^{まつ}られた日光東照宮に生涯で10回参拝している。㉗諸政策に取り組み、幕府の支配体制の基礎を築いた。その結果、㉘社会が安定し経済も発展した。

- 下線部㉔の時代に、朝廷は国司に命じて国ごとに自然、産物、伝承などを記した書物をつくらせた。この書物を何というか。
- 下線部㉕は中国に渡り、帰国後天台宗を伝えた。この時期の日本と中国との関わりについて述べているのはどれか。
 - ア 元のフビライは、日本を従えようとして、2回にわたって大軍を送った。
 - イ 聖徳太子は、小野妹子らを遣隋使として派遣し、留学生や僧を同行させた。
 - ウ 朝廷は、唐のすすんだ制度や文化を取り入れるため、遣唐使を派遣した。
 - エ 明は、海賊行為をはたらく倭寇の取りしまりを日本に求め、勘合貿易が始まった。
- 下線部㉖が行った天皇中心の政治を何というか。
- 下線部㉗について、次の文中の に当てはまるのはどれか。

徳川家光が貿易を統制した後も、外交・貿易の窓口は開かれていた。その一つであった 藩は、アイヌの人々との交易独占権を幕府から認められていた。

ア 長崎 イ 薩摩 ウ 対馬 エ 松前
- 下線部㉘について、江戸時代、江戸・大阪・京都是「三都」とよばれ、栄えていた。その中で、大阪には、諸藩などの蔵屋敷が最も多くおかれていた。その理由を「年貢米や特産物」、「商人」の二つの語句を用いて簡潔に書きなさい。

- 6 略年表を見て、次の1から5までの問いに答えなさい。

- A について、次の文中の I , II に当てはまる語の組み合わせとして正しいのはどれか。

明治政府は財源の安定をめざして地租改正を行った。政府は全国の土地を調査して課税の基準を I とし、納めるものを II に変更した。

- ア I—地 価 II—米 イ I—収穫高 II—現金(貨幣)
- ウ I—地 価 II—現金(貨幣) エ I—収穫高 II—米

- B について、憲法草案作成の中心となり、初代の内閣総理大臣を務めた人物は誰か。

3 次のア、イ、ウ、エは、㉔の時期におきたできごとである。年代の古い順に並べなさい。

- ア 日英同盟が結ばれる。
- イ 国際連盟が設立される。
- ウ 下関条約が結ばれる。
- エ 世界恐慌がおこる。

年 代	で き ご と
1873	地租改正が始まる……………A
1889	大日本帝国憲法が公布される……………B
1945	第二次世界大戦が終わる……………㉔
1972	中国との国交が正常化する……………C
1973	D がおこる

4 図は、Cの年に沖縄の人々が、銀行でドルを円に換えようとしている写真である。なぜ、換金することになったのか、第二次世界大戦の終結からこの年までの沖縄がおかれていた状況をふまえて簡潔に書きなさい。



図

5 次の文は **D** についての説明である。 **D** に当てはまる語を書きなさい。

中東でおきた戦争の影響を受けて、原油の値上げや輸出制限が行われた結果、世界経済は大きな打撃を受け、日本の高度経済成長が終わった。

7 次の文は、香^{かおり}さんの日記の一部である。これを読んで、1から4までの問いに答えなさい。

今日は、電車でおばあちゃんの家に行った。駅前で㉔消費生活センターのチラシをもらった。電車を降りてからコンビニエンスストアでジュースと切手を買って、おつりを㉕発展途上国の人々のために募金した。おばあちゃんは㉖年金を受け取り、一人で生活をしている。私の顔を見て、喜んでくれた。帰りにレンタルショップでDVDを借りた。

- 1 下線部㉔に関して、消費者の安全と安心に関する問題に取り組むために、分散されていた消費者行政を統合して、2009年に設置された国の機関を何というか。
- 2 下線部㉕に関して、発展途上国と先進国との経済格差、およびそこから発生するさまざまな問題を何というか。
- 3 下線部㉖に関して、図を見ると、老齢基礎年金の一人当たりの年間受給額は大きく変化していないにもかかわらず、支給総額は増加している。それはなぜか。近年の人口構成の変化を含め、「受給者」の語を用いて簡潔に書きなさい。

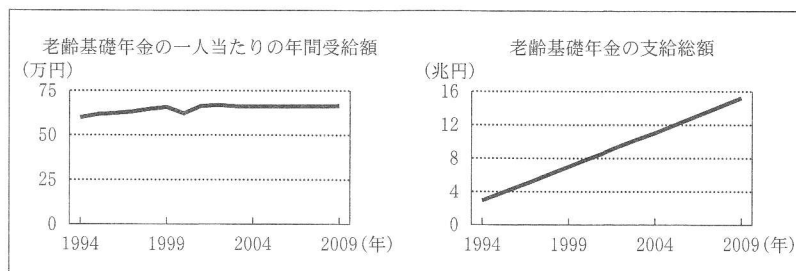


図 (「国立社会保障・人口問題研究所ホームページ」により作成)

4 香さんが支出した次のもののうち、公共料金にあたるものはどれか。

- ア DVDのレンタル料金
- イ ジュースの消費税
- ウ 郵便切手の代金
- エ 募金

8 図1は、国民の政治参加についてまとめたものの一部である。図1を見て、1から5までの問いに答えなさい。

①直接請求権の行使	<ul style="list-style-type: none"> 地方自治においては、国政と比べて、住民の意思を政治に直接反映させることを求める権利が多く保障されている。
<input type="text"/>	<ul style="list-style-type: none"> 地方自治において、条例等にもとづき、住民が地域の重要な問題について賛成か反対かの意思を表明できる制度である。 国政では、特定の地方公共団体のみに適用される特別法をつくる際に行う。
②選挙	<ul style="list-style-type: none"> 国政では国会議員，地方自治では首長と地方議員を選ぶ。 衆議院議員の選挙では③小選挙区比例代表並立制をとり，参議院議員の選挙では選挙区制と比例代表制を組み合わせている。
④裁判員制度	<ul style="list-style-type: none"> 司法制度改革の一環として，2009年から始まった制度である。 6名の裁判員は，3名の裁判官とともに被告人が有罪か無罪かを審理して，有罪ならば刑の内容を決める。

図1

1 下線部①に関して、有権者50万人の市で、新しい条例の制定を請求する場合には、何人以上の有権者の署名を集めて市長に提出する必要があるか。

ア 10000人 イ 50000人 ウ 100000人 エ 250000人

2 に当てはまる語を書きなさい。

3 下線部②に関して、次の(1)、(2)の問いに答えなさい。

(1) 政党が示す公約のうち、政権を獲得した場合の政策の数値目標や達成までの期限などを具体的に明記したものを何というか。

(2) 基本的な政策で合意した複数の政党が協力して国政を担当する場合、この政権を何というか。

4 下線部③に関して、図2は、小選挙区であるX選挙区とY選挙区の有権者数を示している。この二つの選挙区の間に見られる問題点は何か。小選挙区制のしくみを含めて、「一票の価値」の語を用いて簡潔に書きなさい。

選挙区	有権者数
X	207688人
Y	496141人

図2

5 下線部④に関して、裁判員制度を導入した目的について、正しく述べているのはどれか。

ア 国民主権の理念に基づき、裁判が適正に行われているかを監視し国民の権利を保護するため。

イ 誰もが裁判制度をより利用しやすくするとともに、必要な法的支援を受けやすくするため。

ウ 民間事業者がもつ知識や技術などを裁判に活用することにより、裁判の質の向上を図るため。

エ 裁判に国民の視点や感覚を反映させ、司法に対する国民の理解を深め、信頼を高めるため。