

平成 30 年度入学者選抜学力検査問題

社 会

注 意

- 1 監督者の「始め」の合図があるまでは、開いてはいけません。
- 2 検査時間は、10時35分から11時20分までの45分間です。
- 3 大きな問題は全部で7問で、表紙を除いて7ページです。
また、別に解答用紙が1枚あります。
- 4 監督者の「始め」の合図があったら、すぐに受検番号をこの表紙と解答用紙のきめられた欄に書きなさい。
- 5 答えは、必ず解答用紙のきめられた欄に書きなさい。
また、特に指示のあるもののほかは、各問いの **ア**、**イ**、**ウ**、**エ**のうちから最も適当なものをそれぞれ一つ選んで、その記号を解答欄の()の中に書き入れなさい。
- 6 「に当てはまる語を書きなさい」などの問いについての答えは、一般に数字やカタカナなどで書くもののほかは、できるだけ漢字で書きなさい。
- 7 監督者の「やめ」の合図があったら、すぐやめて、筆記用具をおきなさい。

受 検 番 号

番

1 次の1, 2の問いに答えなさい。

1 次の(1)から(4)までの文中の に当てはまるのはどれか。

(1) 海に網を張るなどして、魚や貝を大きくなるまで育てる漁業を 漁業という。

ア 遠洋 イ 沿岸 ウ 沖合 エ 養殖

(2) 平安時代の初め、遣唐使とともに唐に渡った が、日本に天台宗をもたらした。

ア 最澄 イ 法然 ウ 空海 エ 親鸞

(3) 大正時代に入ると、藩閥を批判し、政党による議会政治を求める が、尾崎行雄や犬養毅を中心に盛り上がった。

ア 自由民権運動 イ 護憲運動 ウ 三・一独立運動 エ 尊王攘夷運動

(4) 国際連合において、国際社会の平和の維持に主要な役割を果たしている は、常任理事国と非常任理事国によって構成されている。

ア 経済社会理事会 イ 国際司法裁判所 ウ 安全保障理事会 エ 国連児童基金

2 次の(1)から(4)までの文中の に当てはまる語を書きなさい。

(1) アメリカ合衆国のサンフランシスコ郊外の と呼ばれる地域は、コンピュータ関連産業の中心地である。

(2) コバルトやプラチナなど、埋蔵量が非常に少ない金属や、純粋なものを取り出すことが技術的に難しい金属の総称を という。

(3) 大仙古墳のような といわれる形状の古墳は、大和政権の支配の広がりとともに、各地に広まったと考えられている。

(4) 国家の主権が及ぶ範囲である領土、領海、領空をあわせて という。

2 ゆうきさんは、ヨーロッパ州について学習した。次の1から5までの問いに答えなさい。

1 文中の に当てはまる語を書きなさい。

ヨーロッパ州は、ユーラシア大陸の西端に位置する。南部にはアルプス山脈などの大きな山脈があり、北部には によってけずられてできた湾や湖が多い。

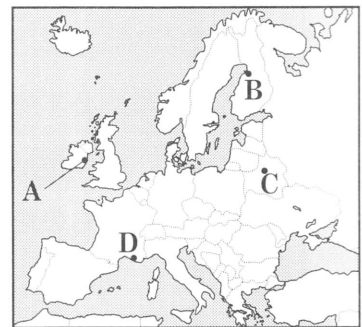


図1

2 図2のア、イ、ウ、エの雨温図は、図1のA、B、C、Dのいずれかの都市の雨温図である。Aの都市の雨温図は図2のどれか。

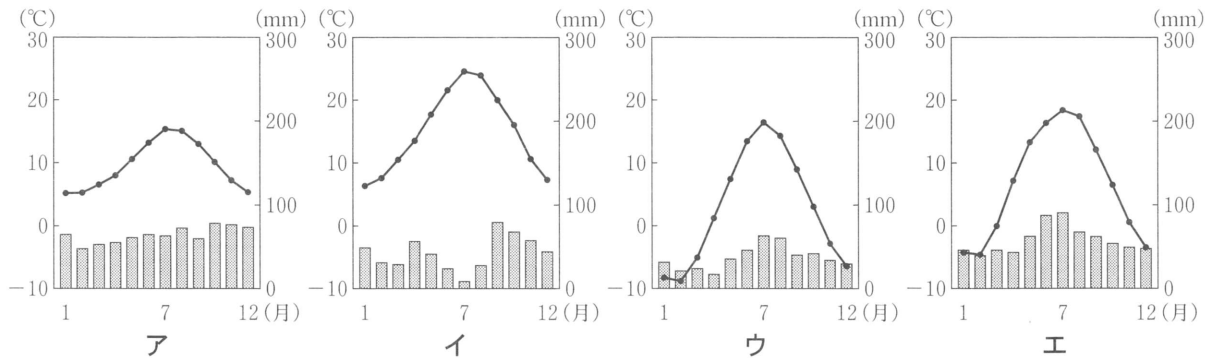


図2 (「気象庁ホームページ」により作成)

3 ゆうきさんは、イタリア、フランス、オランダ、イギリスの穀類、牛乳・乳製品、果実類の自給率(2013年)を調べ、図3にまとめた。イタリアは図3のどれか。

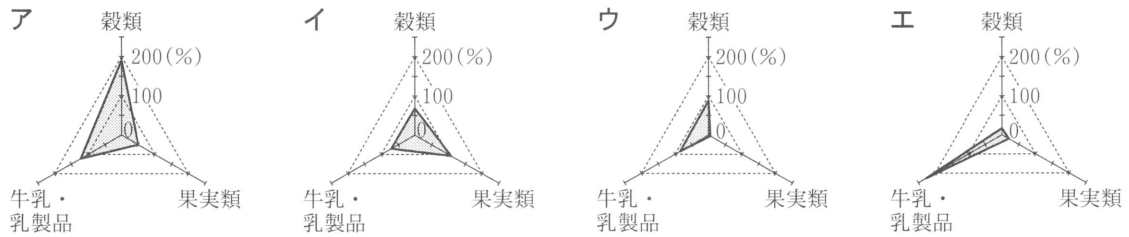


図3 (「農林水産省ホームページ」により作成)

4 ゆうきさんは、ヨーロッパ州の言語と宗教の分布の特徴について知るために、おもな国の言語(公用語の属する言語の系統)とキリスト教のおもな宗派(人口の60%以上を占めるもの)について調べ、図4を作成し、図5にまとめた。図5の **I** , **II** , **III** , **IV** に当てはまる語の組み合わせとして正しいのはどれか。

	スラブ語系	ラテン語系	ゲルマン語系
プロテスタント			ノルウェー スウェーデン イギリス
カトリック	ポーランド	スペイン フランス イタリア	オーストリア
正教会	ウクライナ セルビア ブルガリア	ルーマニア	

図4 (「データブックオブザワールド」により作成)

おもに、地中海沿岸地域には **I** の信者が多く、 **II** 語系が多く分布する。スカンディナ비아半島など北海周辺の地域には **III** の信者が多く、ゲルマン語系が多く分布する。東ヨーロッパには正教会の信者が多く、 **IV** 語系が多く分布する。

図5

- ア I - 正教会 II - スラブ III - カトリック IV - ラテン
 イ I - 正教会 II - ラテン III - カトリック IV - スラブ
 ウ I - カトリック II - スラブ III - プロテスタント IV - ラテン
 エ I - カトリック II - ラテン III - プロテスタント IV - スラブ

5 ゆうきさんは、EUの加盟国に共通してみられる貿易の特徴とその理由を説明するために、図6、図7を作成した。図6、図7から読み取れる、EUの加盟国に共通してみられる貿易の特徴とその理由を簡潔に書きなさい。

	輸出総額に占める割合		輸入総額に占める割合	
	EU内	EU以外	EU内	EU以外
ドイツ	58.0%	42.0%	57.3%	42.7%
フランス	59.1	40.9	58.4	41.6
イタリア	54.9	45.1	58.5	41.5
スペイン	64.8	35.2	56.0	44.0

図6 (「ジェトロ世界貿易投資報告2016年版」により作成)

ヨーロッパ統合の歩み	
1948年	3か国間の関税を撤廃
1952年	6か国間の石炭と鉄鋼の関税を撤廃
1967年	EC(ヨーロッパ共同体)結成 ・パスポート統一(1985)
1993年	EU結成 ・物、サービスの移動自由化(1993) ・人の移動自由化(1995)

図7

3 次の1から5までの問いに答えなさい。

1 図1のX, Yは太平洋を流れる海流である。それぞれの海流の組み合わせとして正しいのはどれか。

- ア X-日本海流 Y-千島海流
- イ X-日本海流 Y-リマン海流
- ウ X-対馬海流 Y-千島海流
- エ X-対馬海流 Y-リマン海流

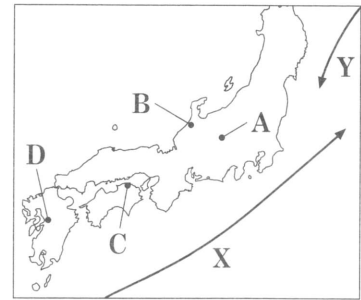


図1

2 図2は、図1のA, B, C, Dの都市の気候についてまとめたものである。Cの都市は図2のア, イ, ウ, エのどれか。

	1月の平均気温(°C)	8月の平均気温(°C)	年間降水量(mm)	降水量が最も多い月
ア	3.8	27.0	2398.9	12月
イ	5.7	28.2	1985.8	6月
ウ	5.5	28.1	1082.3	6月
エ	-0.4	24.7	1031.0	9月

図2 (「データブックオブザワールド」により作成)

3 図3は北海道, 千葉県, 愛知県, 鹿児島県の製造品出荷額上位4品目(2014年)についてまとめたものである。千葉県は図3のア, イ, ウ, エのどれか。

	第1位	第2位	第3位	第4位
ア	石油・石炭製品	化学	鉄鋼	食料品
イ	輸送用機械	鉄鋼	電気機械	生産用機械
ウ	食料品	飲料・飼料	電子部品	窯業・土石
エ	食料品	石油・石炭製品	鉄鋼	パルプ・紙

図3 (「県勢」により作成)

4 次の文は、大都市周辺の農業の特徴についてまとめたものである。文中の□に当てはまる語を書きなさい。

大都市周辺では、消費地に近い立地を生かして、輸送にかかる費用や時間を抑え、野菜や果物などを新鮮なうちに出荷する□農業が行われている。

5 図4は埼玉県, 千葉県, 東京都, 神奈川県の日間人口と夜間人口の差(日間人口-夜間人口)を表している。また、図5は、それらの都県における事業所数, 大学・短期大学数, 住宅地の1m²あたりの平均地価を表している。図4から考えられる人々の移動の特徴を、図5からわかることにふれて簡潔に書きなさい。

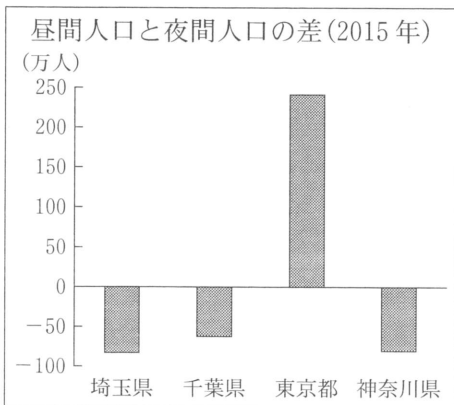


図4 (「県勢」により作成)

	事業所数(2014年)	大学・短期大学数(2015年)	住宅地の1m ² あたりの平均地価(2015年)
埼玉県	264,561	43	10.5万円
千葉県	208,949	37	7.2
東京都	728,710	176	32.4
神奈川県	323,506	46	17.4

図5 (「県勢」により作成)

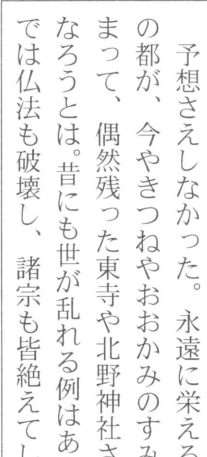
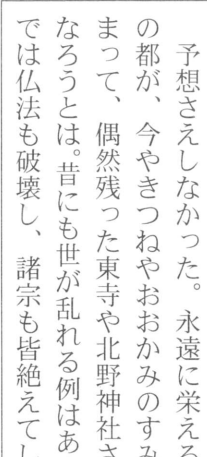
4 次の文は、日本の絵の歴史についてまとめたものの一部である。これを読んで1から7までの問いに答えなさい。

平安時代まで 聖徳太子によって建てられた の金堂には、古代インドの壁画と似た絵が描かれていた。平安時代になると日本独自の特徴が現れるようになり、自然風景や②貴族社会の風俗などを描く大和絵が登場した。

鎌倉時代～安土桃山時代まで 室町時代には、雪舟が山口を拠点に活躍し、日本独自の水墨画を完成させた。また、①多くの貴族や僧が地方に移り住んだ。やがて安土桃山時代になると、③豊臣秀吉の保護を受けた狩野永徳などの画家が活躍した。

江戸時代(開国まで) 葛飾北斎や歌川(安藤)広重など多くの浮世絵師が活躍し、④浮世絵が民衆に身近なものになっていった。また、⑤西洋の文物を紹介した発明家の平賀源内は、洋風画も描いた。

江戸時代(開国以後) ⑥江戸末期の開国以降、海外との交流がますますさかんになり、西洋の影響を受けた絵が描かれるようになった。同時に日本の絵も西洋に紹介され、西洋美術に大きな影響を与えた。

- 文中の に当てはまる、現存する世界最古の木造建築として知られる寺院は何か。
- 下線部②に関して、貴族社会の風俗は、絵だけでなく、文学作品からもうかがえる。当時の代表的な文学作品の一つである『源氏物語』の作者は誰か。
ア 鴨長明 イ 清少納言 ウ 紀貫之 エ 紫式部
- 下線部①について、 は、当時の都の様子が書かれた文章の一部を分かりやすく書き直したものである。貴族や僧が地方に移り住んだ理由と、彼らが地方に与えた文化的な影響について、 中にある「この乱」の名前と、当時の都の状況を明らかにしながら、それぞれ簡潔に書きなさい。
- 下線部③の人物について説明した、次の文中の I , II に当てはまる語の組み合わせとして正しいのはどれか。

予想さえしなかった。永遠に栄えると思われた花の都が、今やきつねやおおかみのすみかとなつてしまつて、偶然残つた東寺や北野神社さえも灰や土にならうとは。昔にも世が乱れる例はあつたが、この乱では仏法も破壊し、諸宗も皆絶えてしまつた。

豊臣秀吉は刀狩や太閤検地などを通して、 I の政策を進めて身分制社会の土台をつくった。また、狩野永徳らに II のふすまや屏風に絵を描かせるなど、経済力を背景に豪華な文化を育んだ。

- ア I - 兵農分離 II - 銀 閣 イ I - 宗門改め II - 銀 閣
ウ I - 兵農分離 II - 大阪城 エ I - 宗門改め II - 大阪城
- 下線部④に関して、この時期、江戸幕府の老中を務めた水野忠邦の改革について、正しく述べているのはどれか。
ア 銅と俵物(海産物)の輸出をさかんにした。 イ 株仲間の解散を命じた。
ウ 幕府の学校では朱子学以外の学問を禁止した。 エ 公事方御定書を制定した。
 - 下線部⑤に関して、平賀源内は長崎で西洋の学問を学んだ。当時、長崎での貿易を認められていたヨーロッパの国はどこか。
 - 下線部⑥に関して、次のア、イ、ウ、エのできごとを年代の古い順に並べかえなさい。
ア 鳥羽・伏見で戦いがおき、戊辰戦争が始まった。 イ 徳川慶喜が大政奉還を行った。
ウ イギリスなどが、長州藩の下関砲台を占領した。 エ 薩長同盟が結ばれた。

5 略年表をみて、次の1から5までの問いに答えなさい。

1 Aについて、年表中の に当てはまる語を書きなさい。

2 Bは、下関条約で獲得した賠償金の一部でつくられた。この条約に関して説明した次の文のうち正しいのはどれか。

ア この条約に不満を持った国民は、日比谷焼き打ち事件をおこした。

イ この条約で樺太の領有権を譲り、千島列島の領有権を獲得した。

ウ この条約締結後、日本は三国干渉を受け入れた。

エ この条約は日本とロシアとの間で結ばれた。

3 Cよりも後におきたできごとはどれか。

ア 中国では、北京での学生集会をきっかけに、帝国主義に反対する五・四運動が広まった。

イ 朝鮮では、日本と欧米諸国を追いはらい、政治改革を目指す甲午農民戦争がおきた。

ウ 日本では、地租改正に反対する一揆が各地でおき、政府は税率を2.5%に引き下げた。

エ インドでは、イギリスの支配に不満を持つ人々が立ち上がり、インド大反乱をおこした。

4 DとEの間の期間に生じた世界恐慌の時に、アメリカのルーズベルト(ローズベルト)大統領は、国民の雇用を確保するために、積極的に公共事業をおこした。この政策を何というか。

5 Fの黒部ダムは、当時の金額で513億円、約7年の歳月をかけて建設された、日本最大級のダムである。当時、このような大規模なダムが建設された背景を、図1、図2からわかることにふれて簡潔に書きなさい。

年代	日本のおもなできごと
1872	新橋・ <input type="text"/> 間で鉄道が開通…A
1901	八幡製鉄所が開業……………B
1914	第一次世界大戦に参戦……………C
1925	ラジオ放送開始……………D
1939	零戦試作1号機が完成……………E
1956	黒部ダム建設開始……………F

日本の事業所数(製造業)

	事業所数
1951年	166,347
1955年	187,101

図1 (総務省ホームページ)により作成

日本の最大需要電力と供給能力

	最大需要電力(kw)	供給能力(kw)
1955年	9,331	9,168

図2 (「数字で見る日本の100年」により作成)

6 次の1, 2の問いに答えなさい。

1 次の(1)から(5)までの問いに答えなさい。

(1) おもに不景気のとき、物価が下がり続ける現象を何というか。

(2) (1)で示した経済状況において、日本銀行が行う金融政策はどれか。

ア 日本銀行は銀行に国債を売り、市場に出まわる通貨量を増やす。

イ 日本銀行は銀行に国債を売り、市場に出まわる通貨量を減らす。

ウ 日本銀行は銀行から国債を買い、市場に出まわる通貨量を増やす。

エ 日本銀行は銀行から国債を買い、市場に出まわる通貨量を減らす。

(3) 消費者基本法の内容として正しいのはどれか。

- ア 一部の企業が市場を独占しないよう公正取引委員会を設置すること。
- イ 商品の欠陥により損害が生じた場合には、製造者が責任を負うことを義務付けること。
- ウ 複数の省庁に分かれていた消費者行政を一つにまとめ、消費者庁を設置すること。
- エ 国や地方公共団体が情報提供などを積極的に行い、消費者の自立を支援すること。

(4) 労働基本権のうち、労働者が労働組合を結成できる権利を何というか。

(5) 次の文は、産業の空洞化について説明したものである。文中の I , II に当てはまる語の組み合わせとして正しいのはどれか。

経済のグローバル化が進む中で、日本では、生産費の I 国へ工場を移転させた企業が多い。その結果、国内で雇用の場が II などの影響がみられる。

- ア I - 高い
- II - 増える
- イ I - 安い
- II - 減る
- ウ I - 安い
- II - 増える
- エ I - 高い
- II - 減る

2 次の文は、ゆいさんが「子どもの権利条約」についてまとめたレポートの一部である。これを読んで(1)から(5)までの問いに答えなさい。

1989年に国連で採択された「子どもの権利条約」には、㉔生きる権利・守られる権利・育つ権利などが含まれている。日本では、1994年、㉕国会の承認を得てこの条約を批准した。現在、国内では、㉖政府の他、さまざまな㉗非営利団体が子どもの権利を守るために活動している。また、国境を越えて、㉘世界の諸問題の解決に向けて活躍する団体もある。

(1) 下線部㉔に関して、生存権について述べた次の文中の にあてはまる語を書きなさい。

日本国憲法は、すべての国民に健康で 的な最低限度の生活を営む権利を保障している。

(2) 下線部㉕に関して、ゆいさんは、図から、平成25年の参議院議員選挙には、日本国憲法が保障している基本的人権の一つに関わる課題があることを知った。その課題とは何か。議員一人当たりの有権者数と課題に関わる基本的人権にふれ、「格差」の語を用いて、簡潔に書きなさい。

平成25年参議院議員選挙		
選挙区	有権者数 (万人)	定数
A	460	4
B	455	4
C	59	2
D	48	2

図

(「総務省ホームページ」により作成)

(3) 下線部㉖に関して、内閣が行うこととして正しいのはどれか。

- ア 教育や福祉などに関する予算の審議
- イ 教育や福祉などに関する法案の議決
- ウ 教育や福祉などに関する政令の制定
- エ 教育や福祉などに関する法律の違憲審査

(4) 下線部㉗を示す略称として正しいのはどれか。

- ア NPO
- イ PKO
- ウ ILO
- エ WTO

(5) 下線部㉘に関して、先進国と発展途上国の間だけでなく、発展途上国間でも経済格差が生じている。このような発展途上国間の経済格差を何というか。

7 昇さんは中学校の社会科のまとめの学習に人口問題を取り上げることにした。次の文は、昇さんが調べてまとめたものの一部である。これを読んで1から4までの問いに答えなさい。

・④世界の人口は地域によって偏りがあるが、世界全体で見ると人口が増加している。
 ・人口爆発が起きている発展途上国では、栄養不足人口の割合が高い。その原因は、自然災害、内戦などによる食糧不足にあり、解決のためには **I** の視点が重要。
 ・①日本の人口は今後も減少し続け、50年後には約8000万人になると予測されている。
 ・国内では、少子化対策の一環として、③さまざまな子育て支援が行われている。

- 1 下線部④に関して、次のうち、人口が2番目に多い地域(2017年)はどれか。
 ア アジア州 イ アフリカ州 ウ オセアニア州 エ ヨーロッパ州
- 2 文中の **I** に当てはまる語として最も適切なのはどれか。
 ア 伝統文化の尊重 イ 内政不干渉 ウ 人間の安全保障 エ 帝国主義
- 3 下線部①に関して、図1は日本の人口増加率を表したものである。Xの年の日本のできごとについて述べているのはどれか。
 ア 国民総生産(GNP)が資本主義諸国の中で第2位になった。
 イ 国民や物資を優先的に戦争にまわす国家総動員法が制定された。
 ウ 男女共同参画社会基本法が制定された。
 エ 満20歳以上の男女による普通選挙が初めて行われた。

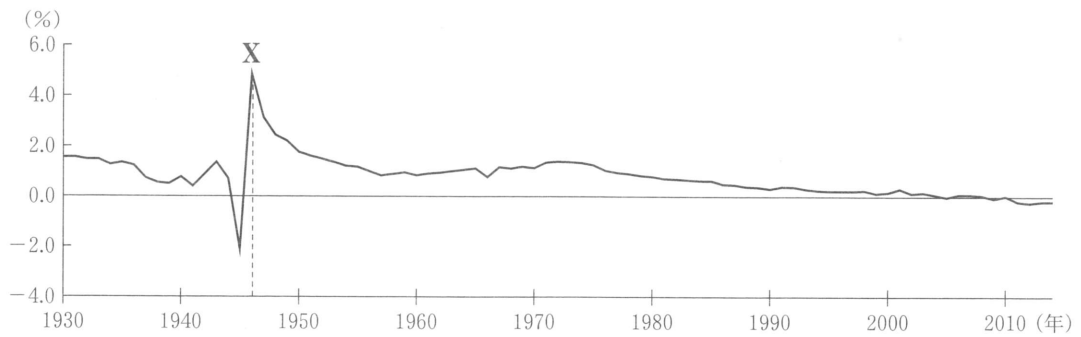


図1 「数字でみる日本の100年」ほかにより作成

4 昇さんは下線部③について調べたところ、それらの支援が大きく三つの取組に分類できることに気づき、図2にまとめた。図2中の①を参考に、**A**、**B**に当てはまる文を書きなさい。

取組	具体的な内容
① 親が働きやすい条件を整えること	<ul style="list-style-type: none"> ・両親ともに取得可能な育児休暇制度 ・小さな子どもを持つ親の勤務時間の短縮 ・育児を理由とした不利益な扱いの禁止
② A	<ul style="list-style-type: none"> ・24時間緊急保育の実施 ・小学校を利用した放課後学童保育 ・学校の空き教室を利用した保育分園
③ B	<ul style="list-style-type: none"> ・出産育児一時金の支給 ・児童手当の支給 ・子どもの医療費の無償化

図2