

令和2年度県立高校入試予想問題

【 社会 】

【 注意事項 】

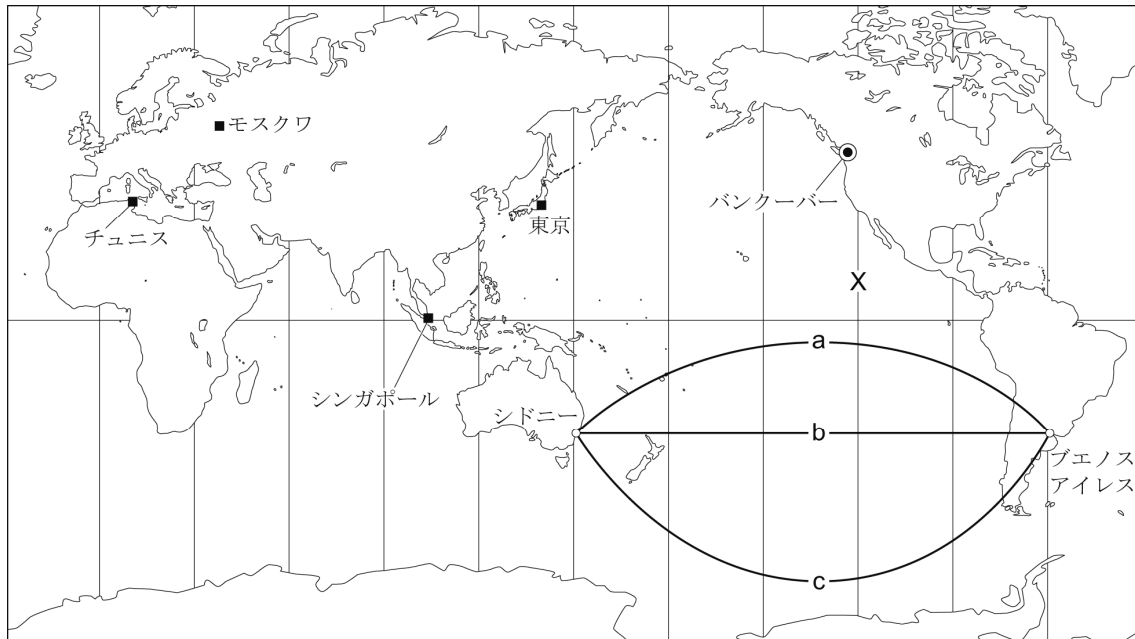
この問題は他の県の入試問題を基に作成しているため、体裁や問題数等が栃木県の入試問題とは異なります。

また、入試予想として作成したため、本来の基本問題にあたる $\boxed{1}$ ・ $\boxed{2}$ の問題を省略してあります。

1 次の各問いに答えなさい。

問1 図1は、緯線と経線が直角に交わった地図である。(1)～(4)の問いに答えなさい。

図1



(1) 世界には、高くけわしい山脈や山地が多い二つの新しい造山帯がある。このうちフィリピン諸島やニュージーランドは、 造山帯に位置している。 に当てはまる造山帯名を書きなさい。

(2) 図1の○で示したバンクーバーは、Xの経線で標準時を定めている。わが国が1月1日午後6時のときのバンクーバーの日時を、次のア～エから一つ選び、記号で答えなさい。

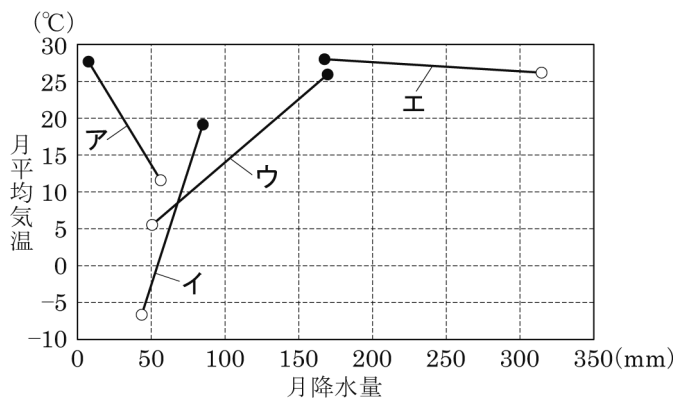
ア 1月1日午前1時 イ 1月1日午前11時

ウ 1月2日午前1時 エ 1月2日午前11時

(3) 図1の○で示したシドニーとブエノスアイレスの距離を地球儀を使って調べるため、目もりをつけた紙テープを地球儀上の二つの都市間に当てて、距離が最も短くなる経路で測った。このときの経路として適当なものを、図1のa～cから一つ選び、記号で答えなさい。


(4) 図2のア～エは、図1の■で示した東京、シンガポール、モスクワ、チュニスのいずれかの都市について、月平均気温が最も低い月の降水量を○印で、月平均気温が最も高い月の降水量を●印で表し、線で結んだものである。モスクワとチュニスに当たるものを、図2のア～エからそれぞれ一つずつ選び、記号で答えなさい。

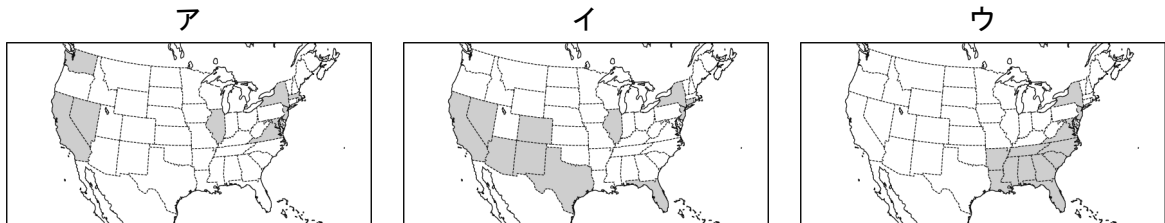
図2



(「理科年表平成29年」による)

問2 アメリカ合衆国について、(1)～(3)の問いに答えなさい。

(1) アメリカ合衆国は、移民を受け入れ、多民族からなる社会を形成している。次のア～ウは、州ごとの人口構成について、州人口のうちアフリカ系が15%以上を占める州、ヒスパニックが15%以上を占める州、アジア系が5%以上を占める州のいずれかを  で示したものである。アフリカ系が15%以上を占める州とヒスパニックが15%以上を占める州を示したものとして適当なものを、ア～ウからそれぞれ一つずつ選び、記号で答えなさい。



ア, イ, ウは、アラスカ州とハワイ州を除いている。

(「データブック オブ・ザ・ワールド 2018」による)

(2) アメリカ合衆国では、a 各地の地形や気候に合わせた農産物を集中的に栽培しており、b (ア アパラチア イ ロッキー ウ アンデス) 山脈の東側に広がるグレートプレーンズやプレーリーでは、牧畜や小麦、とうもろこしなどの栽培が行われている。下線部 a のことを何というか、漢字4字で答えなさい。また、bの () の中から適当なものを一つ選び、記号で答えなさい。

(3) 表3は、2013年におけるアメリカ合衆国と中国の小麦、米、とうもろこしの生産量と輸出量を示したものである。表3から読み取れる、中国と比較したアメリカ合衆国の農産物の生産量と輸出量の関係を書きなさい。

表3

項目 国	小麦		米		とうもろこし	
	生産量 (万 t)	輸出量 (万 t)	生産量 (万 t)	輸出量 (万 t)	生産量 (万 t)	輸出量 (万 t)
アメリカ	5797	3469	575	352	35370	2466
中国	12193	56	13581	54	21849	25

(「世界国勢図会 2018/19」による)

2 次の地図、図および表を見て、問1～問6の問いに答えなさい。

地図

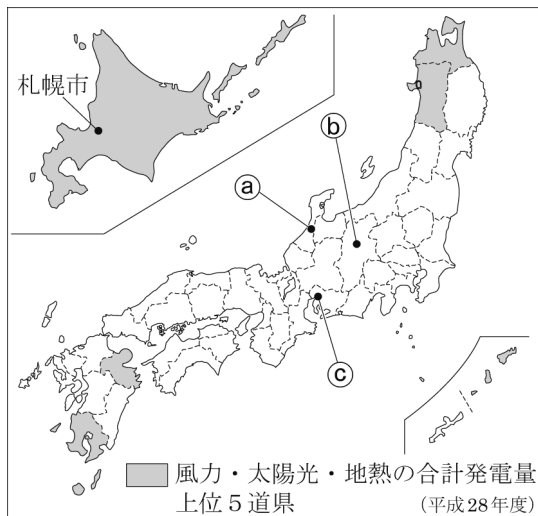


図2 風力・太陽光・地熱の合計発電量

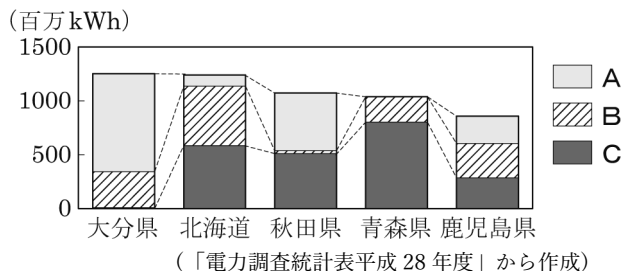


表1 図2の5道県の農産物の生産額(2015年)

道県	農産物の生産額(億円)			
	米	野菜	果実	畜産
ア	422	751	857	910
イ	216	366	129	454
ウ	1 149	2 224	64	6 512
エ	854	261	64	352
オ	191	557	85	2 837

(「データでみる県勢2018」から作成)

図1 ①～③の気温と降水量

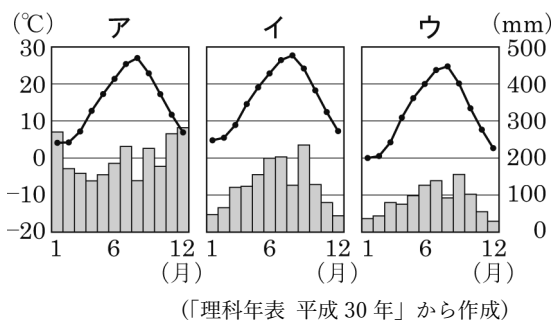


表2 肉用牛の飼育戸数と飼育頭数

項目	年	1977	1997	2017年
		年	年	
秋田県	戸数(千)	11.0	3.0	0.9
	頭数(千)	44.9	29.2	17.1
鹿児島県	戸数(千)	59.5	22.7	8.4
	頭数(千)	214.0	285.1	306.1

(「畜産統計」から作成)

問1 地図の札幌市のように、人口50万人以上で、都道府県の権限が一部委譲されている都市を何というか、書きなさい。

問2 図1のア～ウは、それぞれ地図の①～③のいずれかの都市の気温と降水量を表したものである。②の都市を表すものを、ア～ウから一つ選んで記号を書きなさい。

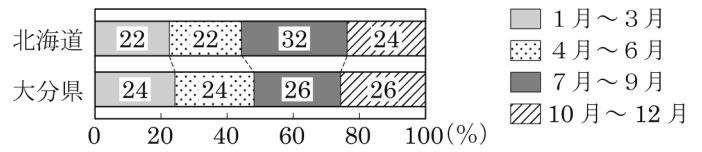
問3 図2のA～Cは、風力、太陽光、地熱のいずれかの発電量を表したものである。Aにあてはまるものはどれか、次の文を参考に書きなさい。

Aを利用した発電は、BやCを利用した発電とは異なり、天候や季節、昼夜を問わず、安定した電力を供給できる。

問4 表1のア～オは、図2の5道県のいずれかである。秋田県にあてはまるものを、ア～オから一つ選んで記号を書きなさい。

問5 図4を見て、年間を通した宿泊者数の割合について、二つの道県を比較して傾向の違いを読みとり、書きなさい。

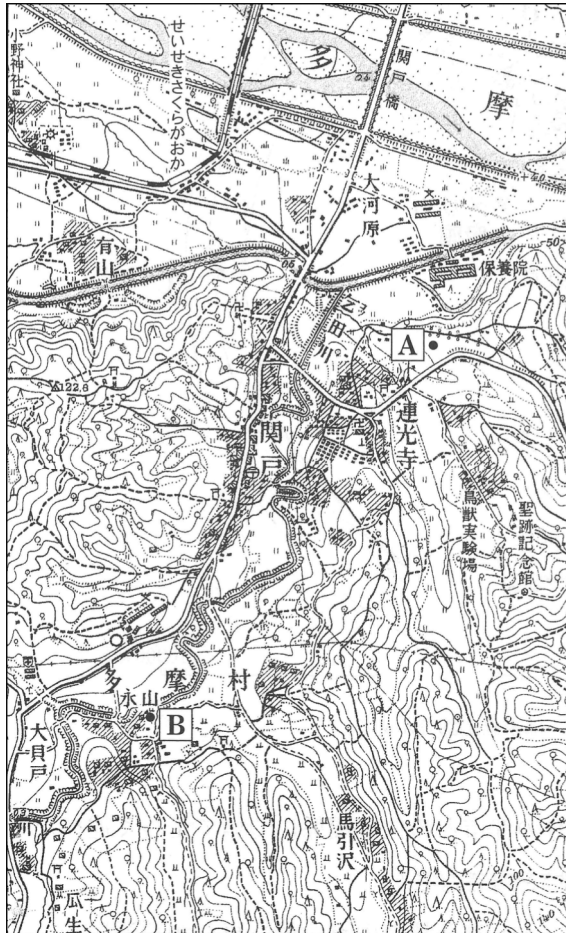
図4 宿泊者数の割合(2015年)



(「宿泊旅行統計調査報告」から作成)

問6 次の地形図1，地形図2は，それぞれ昭和32年及び平成20年発行の東京都のある地域を示したものであり，あとの文章は，ゆうたさんが，この2枚の地形図を見て，読み取ったことがらをまとめたレポートの一部である。文章中の下線部ア～エのうち，内容が誤っているものを一つ選び，その符号を書きなさい。

地形図1

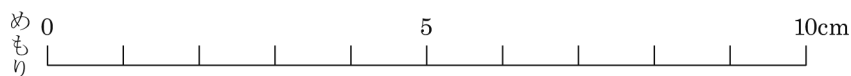


(国土地理院 昭和32年発行 1:25,000「武蔵府中」原図より作成)

地形図2



(国土地理院 平成20年発行 1:25,000「武蔵府中」原図より作成)



昭和32年ごろ，「せいせきさくらがおか」駅の周囲にはア水田が広がっていましたが，新たに住宅などがつくられました。地形図1中のA地点のほぼ北東の方向には新たにイ老人ホームや病院がつけられました。地形図1中のB地点は，最寄り駅まで直線距離でウ2.0km以上ありましたが，その後，鉄道が開通し駅が近くなって便利になりました。また，地形図2中のC地点とD地点の標高差はエ50m以上となっています。

3 次の表は、花子さんが、日本にある世界遺産に関する歴史を調べたものである。

古代	法隆寺	日本に仏教が伝わると①古墳にかわって寺院をつくる者が現れました。聖徳太子が建立した法隆寺の建物や仏像から、②東アジアとの密接な文化交流がうかがわれます。聖徳太子は仏教や儒学を取り入れて、役人の心得を示す ア
中世	中尊寺 金色堂	11世紀から12世紀に岩手県の イ を拠点として栄えた奥州藤原氏が、この阿弥陀堂を建てました。奥州藤原氏は、③鎌倉幕府を開いた源頼朝に滅ぼされるまで、金や馬などの産物の取引や北方との交易で栄えました。
	首里城	首里城は15世紀初頭に ウ 王国を建国した尚氏が居城としました。
近世	日光東照宮	日光東照宮は、④江戸時代に徳川家康をまつために建てられました。現在のおもな社殿は、3代将軍徳川家光によって改築されたもので、建物には数多くの彫刻がほどこされています。
近代	八幡製鉄所	⑤八幡製鉄所は、重工業の基礎となる鉄鋼の国産化をめざして、日清戦争後の エ 条約によって清国から得た賠償金をもとに建設されました。そして、日本の鉄鋼
現代	原爆ドーム	原爆ドームは、⑥第二次世界大戦の悲惨さを現代に伝える世界遺産として登録されています。⑦戦後、数回にわたり修復をして保存されています。

問1 表中の **ア** ～ **エ** に適する語句を書け。

問2 下線の部分①について述べた文として最も適当なものを、次のア～エから一つ選んで、その記号を書け。

- ア 古墳の多くは、地表面に樹木が植えられ、土偶が置かれた。
- イ 古墳の棺に納められた武器から、大和政権の王は天皇と呼ばれていたことがわかる。
- ウ 5世紀に造られた大仙古墳は、大和政権の王の古墳といわれている。
- エ 前方後円墳は、近畿地方を中心に分布しているが、北海道や九州地方には見られない。

問3 下線の部分②について、東大寺には、奈良時代にも国際的な交流が行われたことがわかる西アジアやインドなどから伝わった宝物が納められている宝庫がある。その名称を漢字3字で書け。

問4 下線の部分③について、花子さんがこの時代の御家人の生活について調べたところ、先生が資料1、2を示してくれた。13世紀は資料1のような領地の相続の方法が一般的であったが、14世紀前半には資料2のような相続の方法が見られるようになった。なぜこのような変化が起きたのか、変化の内容とその理由を書け。

資料1

亡くなった夫から相続した土地を次のように相続させる。
 …豊後国（大分県）大野郡の荘園の志賀村の半分は、子どもAが相続し、残りの半分は、子どもBが相続する。豊後国大野郡の荘園の上村の半分は、子どもCが相続し、残りの半分は、子どもDが相続する。 …
 (1240年)

(志賀文書より作成)

資料2

…領地は、すべて跡取りの子に譲ることとする。…今後は、子孫の一人に相続させること。 …
 (1330年)

(山内首藤家文書より作成)

問5 下線の部分④の出来事と農業について、a, bの問いに答えよ。

a 次のア～エは、江戸時代に外国船が接近した時期から幕末における日本の出来事である。年代の古いものから順に記号で書け。

- ア 蘭学者が処罰される蛮社の獄ばんしゃごくがおこった。
- イ 東インド艦隊司令長官ペリーが浦賀に来航した。
- ウ 長州藩が関門海峡を通る外国船を砲撃した。
- エ ロシア使節ラクスマンが根室に来航した。

b 花子さんは、江戸時代の農業について調べたところ、農作物の収穫量が増加していたことがわかった。その理由について、資料3～5をすべてふまえて書け。

資料3 耕地面積

年	面積(千ha)
1600年	2,048
1720年	2,903
1850年	3,144

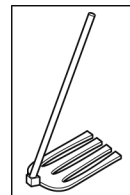
(「経済社会の成立 17-18世紀」より作成)

資料4 農書の例



(国立国会図書館ホームページ「農業全書」より)

資料5 備中ぐわびっちゅうぐわ



(国立国会図書館ホームページ「農具便利論」より作成)

問6 下線の部分⑤について、この製鉄所の立地に最も影響を与えた炭田の場所を、資料6のア～オから一つ選んで、その記号を書け。

資料6



問7 下線の部分⑥について、ヨーロッパでは、この戦争が起こる前にイタリアとドイツでファシズムが台頭した。それらの国に関する次のア～エの文から、最も適当なものを一つ選んで、その記号を書け。

ア イタリアでは、ムッソリーニが結成したファシスト党が政権を握った。

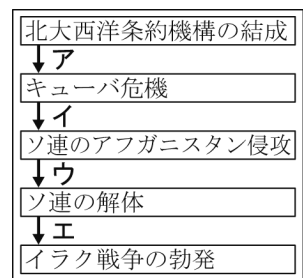
イ 世界恐慌で打撃を受けたイタリアは、武力でエジプトを併合した。

ウ ドイツの議会でナチスが第一党になり、ヒトラーは軍備を縮小した。

エ ドイツは、日独伊三国同盟を結んだ後に、ポーランドに侵攻した。

問8 下線の部分⑦について、戦後の世界の流れとして、ベルリンの壁が崩壊した時期は資料7のア～エのどこにあてはまるか、一つ選んで、その記号を書け。

資料7



4 次の問いに答えなさい。

問1 次の表16は、香澄さんが熊本県出身の金栗四三の生涯とわが国のできごとをまとめたものの一部である。(1)～(4)の問いに答えなさい。

表16

年	金栗四三の生涯	わが国のできごと
1891	現在の和 ^{なごみ} 水町で生まれる	
1910	東京高等師範学校に入学する	韓国を併合する
1912	ストックホルムオリンピックに出場する	① <u>年号(元号)が大正に改められ</u>
1920	② <u>アントワープオリンピック(ベルギー)に出場する</u>	国際連盟に加盟する
1924	パリオリンピックに出場する	第二次護憲運動がおこる
1931		満州事変がおこる
1937	③ <u>オリンピックの準備のために上京する</u>	日中戦争がおこる
1945		第二次世界大戦が終わる
1955	玉名市名誉市民となる	55年体制が始まる
1964		④ <u>東京オリンピックが開催される</u>
1983	玉名市で死去する	

(1) 下線部①について、大正時代のできごとに関する次のア～ウの説明文の下線部には、誤っているものが一つある。誤りのある文の記号を書き、正しい人名または数字に改めなさい。

ア 幸徳秋水が、デモクラシーを民本主義と訳し、民意に基づいた政治を大日本帝国憲法の枠内で実現するための方法を説いた。

イ 原敬が、衆議院の第一党である立憲政友会の党員で閣僚の大部分を占める、初めての本格的な政党内閣を組織した。

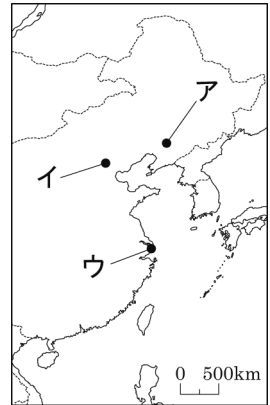
ウ 加藤高明内閣のもと、納税額による制限を廃止して、満25歳以上のすべての男子に衆議院議員の選挙権を与える普通選挙法が成立した。

(2) 下線部②について、アントワープオリンピックでは、第一次世界大戦の敗戦国の参加が認められなかった。次のア～オから、第一次世界大戦の敗戦国をすべて選び、記号で答えなさい。

ア アメリカ合衆国 イ ドイツ ウ フランス エ スイス オ オーストリア

(3) 下線部③について、1940年のオリンピックが東京で開催されることになったが、a 盧溝橋事件をきっかけにおこった日中戦争の長期化の影響により、わが国は開催権を返上した。かわって開催されることになったヘルシンキでのオリンピックも、1939年にドイツが**b (ア ポーランド イ フィンランド)**に侵攻したことをきっかけに始まった第二次世界大戦の拡大のため、中止された。下線部 a がおこった場所を、**図 17**の・で示したア～ウから一つ選び、記号で答えなさい。また、bの()の中から適当なものを一つ選び、記号で答えなさい。

図 17



問2 カード5にかかわって調べた。

カード5 東京都の上野公園にある国立科学博物館の一部の建造物は、d 国の重要文化財に指定され、保護の対象となった。館内には多くの貴重な展示物があり、その中にはパンダのはく製もあった。このパンダは、e 1972年に中国から贈られたパンダの後に、日本にやってきたものであった。今年は、日本で国際博物館会議(ICOM)京都大会が開かれる。博物館や美術館などが文化財を保護するために重要な役割を果たしている。



① 下線部 d について、さくらさんは、国が文化財を保護してきた歴史を右のふせん紙ア～エにまとめた。ふせん紙の内容が古い順になるように左から並べ替え、記号を書きなさい。

ア

第一次世界大戦後の経済不況が続くなか、文化財の国内外への散逸などを背景に、寺社以外が所有する美術品なども保護の対象とした。

イ

日清戦争によって国民的自覚が高まった時期に、岡倉天心らの運動などもあり、寺社の建造物や宝物類を保護する法が制定された。

② 下線部 e にかかわって、1972年の日中共同声明によって、両国の関係はどう変わったか、簡潔に書きなさい。

ウ

第二次世界大戦後、それまでの建造物や史跡などの破壊、重要美術品などの紛失・拡散の防止に加え、無形文化財なども保護の対象とした。

エ

文明開化が広まるころ、寺院、仏像の破壊が起こり、祭器、古書類、仏像などを各地方で保存するよう指示した。

5

問1 次の会話を読み、あとの各問いに答えなさい。

会話

ゆうかさん 今年の夏は日中に青空の広がる日が多くて、夜には星がきれいに見えることも多かったね。

ようたさん そういえば、鳥取県では2017年に「鳥取県星空保全条例」という(a)独自の条例を制定したね。

ゆうかさん 美しい星空が見える(b)環境を残していくために、わたしたちも条例の内容をもっと勉強して、保全活動に協力していかないとね。

- (1) 会話中の下線部(a)に関連して、次の表は、地方自治における住民の直接請求権について示したものである。表中の(A)、(B)にあてはまる語句の組み合わせとして、最も適切なものを、あとのア～エからひとつ選び、記号で答えなさい。

表 地方自治における住民の直接請求権

請求の種類	必要な署名	請求先	請求後の取り扱い
条例の制定・改廃	有権者の(A)	首長	議会を招集し、結果を報告する
議会の解散	有権者の3分の1以上	選挙管理委員会	住民投票を実施し、(B)の賛成があれば解散
首長・議員の解職	有権者の3分の1以上	選挙管理委員会	住民投票を実施し、(B)の賛成があれば解職
監査	有権者の(A)	監査委員	監査を実施して結果を公表する

- ア (A) - 50分の1以上 (B) - 過半数
 イ (A) - 50分の1以上 (B) - 3分の2以上
 ウ (A) - 過半数 (B) - 過半数
 エ (A) - 過半数 (B) - 3分の2以上

- (2) 会話中の下線部(b)に関連して、次の各問いに答えなさい。

- ① 大規模な開発事業を行う際に、事業者自らが環境への影響について、事前に調査・予測・評価することを何とよいか、答えなさい。
 ② 次の文中の()にあてはまるものとして、最も適切なものを、あとのア～エからひとつ選び、記号で答えなさい。

文

1997年に、地球温暖化防止を目的とした会議が開かれ、初めて先進国に二酸化炭素などの温室効果ガスの排出量削減を義務付けた()が採択された。

- ア 国際連合憲章 イ 京都議定書
 ウ 環境基本法 エ 環太平洋パートナーシップ協定(環太平洋経済連携協定)

問2 次の会話を読み、あとの各問いに答えなさい。

会話

先生 現在、日本の(a)選挙権年齢は、満18歳以上となっていますが、2018年6月には、民法の成年年齢も18歳に引き下げることを内容とする法律が(b)国会で成立しましたね。

生徒 そうですね。でも、私は成年年齢についてあまりよく知りません。

先生 民法の定める成年年齢には、単独で契約を締結することができる年齢という意味などがあります。

生徒 私たちも(c)消費者として、買おうとする商品の性質を理解したり、商品が本当に必要かどうか判断したりする力がより一層必要になってきますね。

(1) 会話中の下線部(a)に関連して、次の文中の(A)、(B)にあてはまる語句を、それぞれ答えなさい。

文

現在の日本の選挙は、普通選挙や直接選挙のほか、無記名で投票を行う(A)選挙、一人が一票をもつ(B)選挙を原則として行う。

(2) 会話中の下線部(b)に関連して、衆議院だけが審議できることとして、最も適切なものを、次のア～エからひとつ選び、記号で答えなさい。

ア 法律案の議決

イ 条約の承認

ウ 内閣総理大臣の指名

エ 内閣不信任の決議

(3) 会話中の下線部(c)に関連して、欠陥商品で消費者が被害を受けたときの生産者の責任について定めた法律を何というか、答えなさい。

問3 授業で「企業」をテーマにして各グループが調べ学習を行い、次のレポートⅠ～Ⅲにまとめた。レポートⅠ～Ⅲについて、あとの各問いに答えなさい。

レポートⅠ

私たちの班は、企業の活動について調べました。

企業は法令を守り、情報を公開することはもちろん、消費者の安全や雇用の確保など、多様な役割と責任を担っています。さらに現在では、利潤を追求するだけでなく、教育や文化、環境保全などで積極的に社会貢献を行うことも、企業に期待されています。その活動の例として、次のものがあげられます。

・少年野球の大会運営を通して、スポーツ振興を図っている。

・植樹や清掃を通して、環境保全の活動を推進している。

・国際的な社会貢献として、発展途上国の子どもたちにポリオワクチンを供与している。


レポートⅡ

私たちの班は、景気対策について調べました。

不景気になると、需要量が供給量を下回り、物価が下がり続けるデフレーションが起こることがあります。このような不景気の際に日本銀行が行う金融政策として、公開市場操作という方法がとられます。日本銀行は銀行が持つ国債を（A）ことで、景気回復を図ります。また、政府は財政政策として（B）をして企業や家計の資金を増やし、公共事業への支出（公共投資）を（C）させて民間企業の仕事を増やします。

レポートⅢ

私たちの班は、日本における携帯電話、家庭用ゲーム機、乗用車の寡占の状況についてグラフにまとめました。



「日経シェア調査2016年版」より作成

- レポートⅠ中の下線部のように、企業が果たすべき役割や責任を何というか、答えなさい。
- レポートⅡ中の（A）～（C）にあてはまる語句の組み合わせとして、最も適切なものを、次のア～エからひとつ選び、記号で答えなさい。
ア （A）－ 買う （B）－ 増税 （C）－ 減少
イ （A）－ 売る （B）－ 減税 （C）－ 増加
ウ （A）－ 買う （B）－ 減税 （C）－ 増加
エ （A）－ 売る （B）－ 増税 （C）－ 減少
- レポートⅢ中の下線部の語句の意味を、次の条件に従って説明しなさい。

条件

・「レポートⅢの商品のように、」という書き出しに続けて答えること。

問4 おさむ君のクラスは沖縄の観光について調べた。各班の発表内容を読み、次の各問いに答えよ。

1班：沖縄県への観光客数が
ハワイを上回った一方で、訪れた観光客へのアンケート調査では、観光立県としての課題もみられた。
(あ)交通渋滞もそのひとつ

2班：沖縄には豚肉を食べる文化があるが、(い)世界には宗教上、豚肉を食べない人々がいる。そのような人々の文化も理解していくことは、沖縄の観光にも必要だ

3班：沖縄県内ではしかが行ったことにより、来県をキャンセルする観光客がいた。そのほか、国内外の政治や経済の状況が、沖縄への観光に影響を与えることがあるよう

(1) 下線部(あ)に関して、次の文を読み、空欄 A ~ C に入る語句の組み合わせとして最も適当なものを、次のア~エのうちから1つ選び、記号で答えよ。

沖縄県は、交通渋滞の緩和や車以外の交通手段の整備として、沖縄本島を縦断する鉄軌道の整備を検討している。このような社会資本の整備を行う政府（国や地方公共団体）の仕事は A といわれる。
A に必要な費用は、国民や県民などが納める B が使われる。これをもとに国民に財やサービスを提供するはたらきを C という。

- | | | | | | | |
|---|---|--------|---|--------|---|------|
| ア | A | — 社会保障 | B | — 税金 | C | — 金融 |
| イ | A | — 公共事業 | B | — 公共料金 | C | — 金融 |
| ウ | A | — 社会保障 | B | — 公共料金 | C | — 財政 |
| エ | A | — 公共事業 | B | — 税金 | C | — 財政 |

(2) 下線部(い)のように、異なる文化を持つ人々と出会う機会がふえ、国境をこえてモノ、お金、情報などが自由に行き交う世界の一体化の傾向を示す外来語を何というか。解答欄に適する語句をカタカナで答えよ。

- 6 問1 さくらさんは、2019年にラグビーワールドカップが日本で開催されることから、ラグビーワールドカップをテーマとして調べたことを、次のように新聞にまとめた。各問いに答えよ。


ラグビーワールドカップ新聞

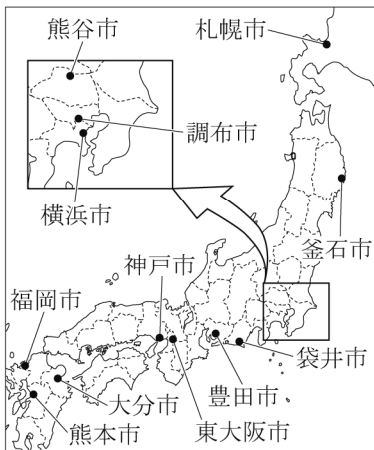
全国12の都市で試合を開催
「ラグビーワールドカップ2019」は、右に示した12の都市で試合が行われる。試合数は、全部で48試合である。

注目の強豪チーム
現在、ラグビー世界ランキング第1位の Aニュージーランド が、過去3回優勝している。オーストラリアと南アフリカ共和国は、各2回優勝している。今回の優勝はどこか。日本の活躍に期待したい。

試合会場ひとくちメモ
「鉄と魚とラグビーのまち」といわれている釜石市の「釜石鶴住居復興スタジアム」は、今大会に向けて唯一新設されたスタジアムである。B東日本大震災で被災した鶴住居小学校・釜石東中学校の跡地に整備された。

大会を開催することが C被災地の復興 につながると考えた地域住民らの働きかけにより、釜石市では、「復興まちづくり基本計画」に大会誘致を盛り込んだ。誘致に成功した現在、スタジアムは、復興のシンボルとなっている。





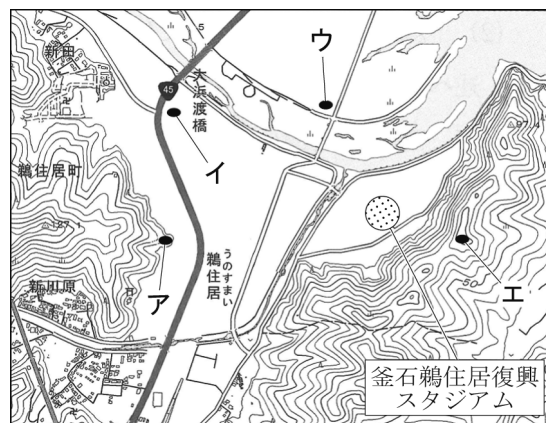
(1) 日本でのラグビーは、日米修好通商条約により開港された港の居留地で、外国人により行われたのが始まりとされている。新聞内の略地図に示された12の開催都市の中には、この条約により開港された港があった都市が2つ含まれている。その都市を略地図中から2つ選び、その都市名を書け。

(2) 下線部Aは、ラグビー発祥の国であるイギリスと歴史的な関係がある。この歴史的な関係を、資料Iのニュージーランドの国旗を参考にして、簡潔に書け。

資料I



(3) 下線部Bは、2017年に新しい場所に移転した。その場所は、津波の到達が予想される場合に、緊急的に避難する場所として指定されており、地域の防災拠点としても位置づけられている。移転した学校がある場所はどこか。右の地形図中のア～エから1つ選び、その記号を書け。



(地理院地図及び国土地理院発行2万5千分の1「釜石」より作成)

(4) 釜石市には、ラグビーを通して下線部Cの支援を行っている民間組織がある。このように、営利を目的とせず、社会貢献活動に取り組む民間組織の略称として正しいものを、次のア～エから1つ選び、その記号を書け。

- ア ILO イ NPO ウ WTO エ PKO

(5) 試合会場の中には、地方公共団体が所有しているながら、企業名や商品名と関連した名称がつけられたものがある。これは、施設を所有する地方公共団体が、名称をつける権利を企業に与える契約を結んだためである。さくらさんは、この契約について調べたことを右の表のようにまとめた。表中の(X)に当てはまる言葉を簡潔に書け。

契約期間	3～5年間
契約金額	年間2,500万～1億5,000万円
地方公共団体の利点	<ul style="list-style-type: none"> ・財源を確保できる ・財源の活用により住民サービスを向上させることができる
企業の利点	<ul style="list-style-type: none"> ・(X) ・社会貢献活動を実践できる

問2 2020年に開かれる東京オリンピック・パラリンピック競技大会が東北地方でも行われることを知った誠さんのグループは、東北地方の産業について話し合いをした。以下の問に答えなさい。

会話文

誠：オリンピックのサッカー競技会場は、「ひとめぼれスタジアム宮城」とよばれているそうですよ。

優：「ひとめぼれ」は、a 宮城県や岩手県で多く生産される米の品種で、銘柄米としても有名ですが、昔から盛んにつくられているのでしょうか。

明：ひとめぼれは、1991年に品種登録を申請し、宮城県では、え年に、初めてb ササニシキの作付割合を上回りました。

優：私は、米以外の農作物に着目し、c 青森県のだいこんの生産について調べました。

桜：南部鉄器や津軽塗など多くの伝統的工芸品もあります。生産は停滞傾向ですが、d 様々な工夫をしたり、海外へ輸出したりしているものもあります。

誠：昔から自然と産業、人々の生活が密接にかかわっているんですね。オリンピック・パラリンピックを通して東北地方のよさが更に世界に認められるとよいですね。

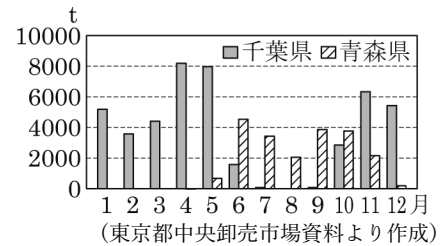
- (1) 会話文の下線部 c について、優さんは、資料 9 をもとに、ノート 2 にまとめた。

ノート 2 東京都中央卸売市場におけるだいこんの取扱数量が多い千葉県と青森県を比べると、青森県のだいこんの取扱数量は、6月から10月にかけて千葉県を上回っている。

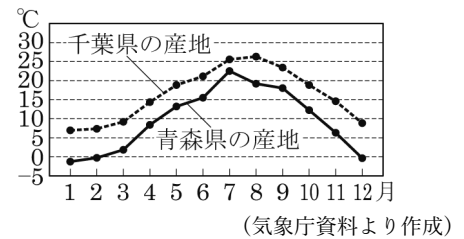
優さんは、ノート 2 のようになるのは、それぞれの県の気温の違いに理由があるのではないかという考えをもった。そこで、だいこんの生育に適した温度について調べ、およそ 15~20℃であることを知り、資料 10 を用意した。優さんの考えを確かめるためには、資料 10 のどこに着目して読み取ればよいか、簡潔に書きなさい。

- (2) 会話文の下線部 d について、資料 11, 12 から共通して読み取れる工夫を、現代という語を使って、15 字以内で簡潔に書きなさい。

資料 9 東京都中央卸売市場におけるだいこんの取扱数量 (2017 年)




資料 10 千葉県と青森県のだいこんのおもな産地の平均気温 (2017 年)



資料 11 I H調理器対応の南部鉄器



資料 12 津軽塗のスマートフォンカバー



令和2年度県立高校入試予想問題 模範解答 ①

問題番号		解 答		配点	備 考		
1	問 1	(1)	造山帯				
		(2)					
		(3)					
		(4)	モスクワ				
	チュニス						
	問 2	(1)	アフリカ系				
			ヒスパニック				
		(2)	a				
			b				
	(3)						
2	問 1						
	問 2						
	問 3						
	問 4						
	問 5						
問 6							

令和2年度県立高校入試予想問題 模範解答 ②

問題番号		解 答				配点	備 考	
3	問 1	ア		イ				
		ウ		エ				
	問 2							
	問 3							
	問 4	変化の内容						
		理由						
	問 5	a	→ → →					
		b						
	問 6							
	問 7							
問 8								
4	問 1	(1)	記号		人名・数字			
		(2)	,					
		(3)	a		b			
	問 2	①	→ → →					
		②						

令和2年度県立高校入試予想問題 模範解答 ③

問題番号		解 答		配点	備 考
5	問 1	(1)			
		(2)	①		
			②		
	問 2	(1)	A		
			B		
		(2)			
		(3)			
	問 3	(1)			
		(2)			
		(3)			
	問 4	(1)			
		(2)		化	
6	問 1	(1)	市	市	
		(2)			
		(3)			
		(4)			
		(5)			
	問 2	(1)			
		(2)			

令和2年度県立高校入試予想問題 模範解答 ①

問題番号		解 答		配点	備 考	
1	問 1	(1)	環太平洋 造山帯	2		
		(2)	ア	2		
		(3)	c	2		
		(4)	モスクワ	イ		完答 2
	チュニス		ア			
	問 2	(1)	アフリカ系	ウ		完答 2
			ヒスパニック	イ		
		(2)	a	適地適作		完答 2
	b		イ			
	(3)	アメリカ合衆国は農産物の生産量に占める 輸出量の割合が大きい		4		
2	問 1	政令指定都市		2		
	問 2	ウ		2		
	問 3	地熱		2		
	問 4	エ		2		
	問 5	(例) 北海道の宿泊者数の割合は7月～9月が高く 大分県は時期による差が小さい		4		
	問 6	ウ		2		

令和2年度県立高校入試予想問題 模範解答 ②

問題番号		解 答				配点	備 考	
3	問1	ア	十七条の憲法		イ	平泉		
		ウ	琉球		エ	下関		
	問2	ウ				1		
	問3	正倉院				2		
	問4	変化の内容		(例) 領地の相続が分割相続から単独による相続に変わった			2	
		理由		(例) 一人あたりの土地が小さくなり御家人の生活が苦しくなったから			2	
	問5	a	エ → ア → イ → ウ				2	
		b	(例) 耕地面積が増加したことや農書によって進んだ技術が各地に伝わり、深く耕することができる備中ぐわなどの新しい農具の使用も広がったので、農作物の収穫量が増加した				2	
	問6	オ				1		
	問7	ア				1		
問8	ウ				1			
4	問1	(1)	記号	ア	人名・数字	吉野作造		完答 2
		(2)	イ , オ				完答 2	
		(3)	a	イ	b	ア		各2
	問2	①	エ → イ → ア → ウ				2	
		②	(例) 国交が正常化した				4	

令和2年度県立高校入試予想問題 模範解答 ③

問題番号		解 答		配点	備 考	
5	問 1	(1)	ア	2		
		(2)	①	環境アセスメント（環境影響評価）		2
			②	イ		2
	問 2	(1)	A	秘密		完答 2
			B	平等		
		(2)	エ	2		
	(3)	製造物責任法（PL法）	2			
	問 3	(1)	企業の社会的責任（CSR）	2		
		(2)	ウ	2		
		(3)	レポートⅢの商品のように （例）少数の企業で市場を占めていること	4		
	問 4	(1)	エ	2		
		(2)	グローバル 化	2		
6	問 1	(1)	横浜 市 神戸 市	完答 2		
		(2)	（例）かつてイギリスの植民地であった	2		
		(3)	ア	2		
		(4)	イ	2		
		(5)	（例）宣伝効果が得られる	2		
	問 2	(1)	（例）それぞれの県で15～20℃になる月に着目する	2		
		(2)	（例）現代の生活様式に対応する工夫	2		

1 問1 (1) 高くてけわしい山脈や山地が多く、地震の震源や火山が帯のように連なって分布している地域を造山帯という。世界には、アンデス山脈やロッキー山脈、日本列島、フィリピン諸島、ニュージーランドなどが位置している環太平洋造山帯と、アルプス山脈やヒマラヤ山脈などが位置しているアルプス・ヒマラヤ造山帯の二つの新しい造山帯がある。よって、環太平洋造山帯。

(2) 図1で、イギリス（の首都ロンドン）を通過する経度0度の経線（本初子午線）から、ニュージーランドのすぐ東側を通過する経度180度の経線まで、経線を6本東に移動することになるので、経線は30度間隔で引かれていることがわかる。バンクーバーが標準時の基準としているXは西経120度の経線であり、わが国が標準時の基準としている東経135度の経線とは255度の経度差。経度差15度ごとに1時間の時差となるので、 $255(\text{度}) \div 15(\text{度}/\text{時間}) = 17(\text{時間})$ 。経度0度の経線（本初子午線）をはさんでわが国の方が東に位置していて、ほぼ経度180度にそって引かれている日付変更線に近いので、日時が先に進んでいることになる。したがって、バンクーバーはわが国より17時間遅い。わが国が1月1日午後6時のとき、バンクーバーはその17時間前の1月1日午前1時なので、ア。

(3) 図1のシドニーも、ブエノスアイレスも赤道よりも南に位置する南半球の都市。緯線と経線が直交する地図上での南半球の二つの都市間の最短距離は、高緯度に向かって突き出す形（凸）の曲線となる。よって、図1のc。

(4) 図2のアは、月平均気温が10～30℃の範囲内で平均気温が最も高い月（夏）の降水量が0mm強、最も低い月（冬）の降水量が50mm強なので、温帯のうちの地中海性気候のチュニス（チュニジア）に当たる。イは、月平均気温が-10～20℃の範囲内で平均気温が最も高い月（夏）の降水量が100mm未満、最も低い月（冬）の降水量が50mm弱なので、冷帯（亜寒帯）の気候のモスクワ（ロシア連邦）に当たる。ウは、月平均気温が5～30℃の範囲内で平均気温が最も高い月（夏）の降水量が150mm以上、最も低い月（冬）の降水量が50mm程度なので、温帯のうちの温帯（温暖）湿潤気候の東京（日本）に当たる。エは、月平均気温が25～30℃の範囲内で平均気温が最も高い月の降水量が150mm以上、最も低い月（冬）の降水量が300mm以上なので、熱帯の気候のシンガポールに当たる。以上から、モスクワはイ、チュニスはア。

問2 (1) アは、太平洋側の州などで人口割合が高いので、アジア系が5%以上を占める州。イは、メキシコに近い南西部の州などで人口割合が高いので、ヒスパニックが15%以上を占める州。ヒスパニックは、日常的にスペイン語を話す、メキシコなど中南米からアメリカ合衆国への移民やその子孫。ウは、南東部の州などで人口割合が高いので、アフリカ系が15%以上を占める州。アフリカ系の人々の先祖には、かつてアフリカ大陸から奴隷として連れてこられ、南東部の綿花などを栽培する農園で働かされた人が多かった。以上から、アフリカ系が15%以上を占める州はウ、ヒスパニックが15%以上を占める州はイ。

(2) a アメリカ合衆国では、各地の地形や気候に合わせた農産物を集中的に栽培しており、これを適地適作という。b アメリカ合衆国（の西部）に連なり、東側にグレートプレーンズやプレーリーが広がるのはロッキー山脈。よって、イが適当。なお、アのアパラチア山脈はアメリカ合衆国の東部、ウのアンデス山脈は南アメリカ州の西部に連なる。

(3) 表3から、中国は小麦、米、とうもろこしについて、生産量が多いが、輸出量は非常に少ない。これは、中国は総人口が約14億人と世界で最も多く、生産した農産物のほとんどを国内で消費していることに関係している。中国と比較して、アメリカ合衆国はそれぞれの農産物の生産量に占める輸出量の割合が大きい。これは、企業的な大規模農業により国内で消費する以上の農産物を生産し、多くの農産物を輸出していることに関係している。

2 問1 「人口50万人以上で、都道府県の権限が一部委譲されている都市」は政令指定都市と呼ばれる。札幌市のほかに、仙台市、広島市、浜松市、熊本市などがある。

問2 ㉔の都市は日本海側に、㉕の都市は中央高地に、㉖の都市は太平洋側にそれぞれ位置する。図1の

アは冬の降水量が多いので、日本海側の気候の㊸の都市があてはまる。イは夏の降水量が多いので、太平洋側の気候の㊹の都市があてはまる。ウは年間を通して気温が低く、雨が少ないので、中央高地の気候の㊺の都市があてはまる。

問3 「天候や季節、昼夜を問わず、安定した電力を供給できる」とあることから、「天候や季節、昼夜」の影響を受ける太陽の光や風の力を利用した発電ではないと判断できる。地熱発電は、火山活動などによる地熱を利用して発電するもので、安定した供給が可能である。

問4 ウは米、野菜、畜産の生産額が圧倒的に多いことから北海道、アは果実の生産額が圧倒的なこと、野菜の生産もウに次いで多いことから青森県、オは畜産の生産額がウに次いで多いことから鹿児島県と判断できる。秋田県は米の生産がさかんなので、残ったイ、エのうち、ウに次いで米の生産額が多いエと判断できる。イが大分県となる。

問5 図4のグラフから、北海道は7月～9月が多くなっていること、大分県は月による差があまりないことが読み取れる。

問6 ア…地形図1中の「せいせきさくらがおか」駅の周辺に分布している「田」は水田の地図記号であり、内容は正しい。イ…地形図1中のA地点のほぼ北東の方向にあたる場所は、地形図2では㊸(老人ホーム)、㊹(病院)があるので、内容は正しい。ウ…地形図1の縮尺は2万5千分の1であり、B地点から最寄りの「せいせきさくらがおか」駅まで直線距離で7cmあまりである。地形図1上の実際の直線距離2.0kmは $200,000(\text{cm}) \div 25,000 = 8(\text{cm})$ であり、7cmあまりは8cm未満なので、2.0km未満となり、内容は誤っている。エ…地形図2の縮尺は2万5千分の1であり、等高線は10mごとに引かれている。C地点の標高は約50m、D地点の標高は120mなので、標高差は約70mで50m以上であり、内容は正しい。以上から、内容が誤っているのはウ。

3 ア 聖徳太子がつくった役人の心得は、十七条の憲法。イ 11～12世紀に奥州藤原氏が拠点としたのは岩手県の平泉。ウ 15世紀初頭に尚氏が建国したのは琉球王国。エ 日清戦争後に結ばれ、日本が多額の賠償金を得たのは下関条約によってである。

問1 ア 古墳に置かれたのは土偶ではなく埴輪なので、誤り。土偶は古墳時代より前の縄文時代に、まじないやいのりに使われたと考えられる。イ 古墳の棺に納められた武器から、大和政権の王は大王と呼ばれていたことがわかったので、誤り。大王がのちに天皇と呼ばれるようになった。ウ 正しい内容で、これが正解。エ 前方後円墳は東北地方から九州地方にかけて見られるので、誤り。

問2 西アジアやインドなどから伝わった宝物が納められている宝庫は正倉院。たとえば、五絃の琵琶はインド産の木材でつくられ、らくだに乗る人がえがかれている。

問3 鎌倉時代の御家人の相続は、女性や子らによる分割相続が基本で、資料1からはそのことが読み取れる。しかし、これでは一人当たりの土地は小さくなるいっぽうで、生活は苦しくなる。そこで、鎌倉時代後半になると資料2のように単独相続が見られるようになった。解答に関して、変化の内容では、分割相続や単独相続という用語が、理由に関しては、土地の細分化により生活が苦しくなったという点にふれることが必要である。

問4 a ア 蛮社の獄は1839年。イ ペリーが浦賀に来航したのは1853年。ウ 長州藩が外国船を砲撃したのは1863年。エ ラクスマンが根室に来航したのは1792年。年代の古いものから順に並べるとエ→ア→イ→ウ。b 資料3からは耕地面積の増加、資料4からは農書による技術の普及、資料5からは新しい農具の広まりを読み取る。これらをすべて含んで「農作物の収穫量が増えた」という内容の文をつくれればよい。

問5 八幡製鉄所は現在の福岡県北九州市に建設され、近く筑豊炭田の石炭と、中国から輸入した鉄鉱石をもとに鉄鋼を生産した。したがって、正解はオ(筑豊炭田)。なお、アは幌内炭鉱、イは釜石鉄山、

ウは佐渡金山，エは生野銀山である。

問6 ア 正しい内容で，これが正解。イ イタリアが武力で併合したのは，エジプトではなくエチオピアなので，誤り。ウ ヒトラーは軍備を拡大（増強）したので，誤り。エ ドイツは日独伊三国同盟を結ぶ前年（1939年）にポーランドに侵攻したので，誤り。

問7 ベルリンの壁の崩壊は1989年である。資料7の北大西洋条約機構の結成は1949年，キューバ危機は1962年，ソ連のアフガニスタン侵攻は1979年，ソ連の解体は1991年，イラク戦争の勃発は2003年なので，ベルリンの壁の崩壊はソ連のアフガニスタン侵攻とソ連の解体の間ということになり，正解はウ。

4

問1 (1) ア デモクラシーを民本主義と訳すなどしたのは，吉野作造。幸徳秋水は，社会主義者らが逮捕・処罰された1910年の大逆事件で，処刑された人物。イ 原敬は，1918年におこった米騒動後に内閣総理大臣として，初めての本格的な政党内閣を組織した人物。ウ 加藤高明内閣のもと，1925年に普通選挙法が成立し（衆議院議員選挙法が改正され），満25歳以上のすべての男子に衆議院議員の選挙権が与えられた。以上から，下線部が誤っているのはアで，正しい人名は吉野作造。

(2) 第一次世界大戦前，イギリス，フランス，ロシアの三国協商と，ドイツ，オーストリア，イタリアの三国同盟が対立していた。第一次世界大戦で三国協商（連合側）側に立って戦勝国となったのは，アのアメリカ合衆国，ウのフランスなど。三国同盟側（ただし，三国同盟のうちのイタリアは，三国協商側で参戦）に立って敗戦国となったのは，イのドイツやオのオーストリアなど。よって，敗戦国はイ，オ。なお，エのスイスは，第一次世界大戦で中立を保った。

(3) a 1937年に始まった日中戦争のきっかけの盧溝橋事件は，北京郊外でおこった。よって，図17のイ。なお，アは奉天（現在の瀋陽），ウは上海。b 第二次世界大戦は，ドイツが隣国のポーランドを侵攻したことをきっかけに始まった。よって，アが適当。

問2 ① アは大正時代，イは明治時代後半，ウは昭和時代，エは明治時代前半のことなので，エ→イ→ア→ウの順である。

② 日本と中国は，1972年に日中共同声明を発表して国交を正常化し，1978年に日中平和友好条約を結んで，関係をさらに深めることになった。

5

問1 (1) 直接請求権を行使するのに必要な署名数は，議会の解散や首長・議員の解職など，地位や役職に関するものは有権者の3分の1以上で，それ以外の条例の制定・改廃や監査などは有権者の50分の1以上である。また，請求後の取り扱いについては，議会の解散や首長・議員の解職など，地位や役職に関するものは，住民投票で過半数の賛成を必要とする。したがって，(A)は50分の1以上，(B)は過半数なので，正解はア。

(2) ① 大規模開発事業の前に環境への影響を調査・予測・評価することは，環境アセスメント，または環境影響評価とよばれる。② 文は1997年に京都で開催された，気候変動枠組条約第3回締約国会議，通称COP3を説明している。したがって，正解はこの会議で採択されたイの京都議定書。先進国に二酸化炭素などの温室効果ガスの排出量削減を義務付けた。

問2 (1) 選挙の原則には，文に名称が出ている普通選挙や直接選挙のほか，本問で問われている，無記名で投票を行う(A)の秘密選挙，一人が一票をもつ(B)の平等選挙がある。

(2) アの法律案の議決，イの条約の承認，ウの内閣総理大臣の指名は，衆議院・参議院のどちらでも審議するが，エの内閣不信任の決議は，衆議院だけが審議できる。なお，ア～ウは，衆議院と参議院で議決が異なった場合，手続きは事項によって異なるが，いずれも衆議院の優越が定められている内容である。

(3) 製造物責任法（PL法）は、欠陥商品で消費者が被害を受けた場合、生産者に過失がなくても責任があると定めている。

問3 (1) レポートⅠに具体的にあげられている内容から、企業が果たすべき役割や責任は、企業の社会的責任と判断できる。これは英語の頭文字をとってCSRともよばれる。

(2) 不景気の際に日本銀行が行う金融政策、および政府が行う財政政策の目的は、市中の通貨量を増やすことである。したがって、日本銀行は銀行が持っている国債を（A）買い、政府は（B）減税や公共投資の（C）増加をして、経済の活性化を図る。したがって、正解はウ。

(3) レポートⅢから、携帯電話は3社で市場の100%、家庭用ゲーム機は2社でほぼ100%、乗用車は5社でほぼ80%を占めていることがわかる。このように、少数の企業で市場を占めていることを寡占という。これが進むと1社で市場の100%を占める独占となる。

問4 (1) A 社会資本の整備を行う政府（国や地方公共団体）の仕事は公共事業。B 公共事業に使われるのは国民や県民などが納める税金。C 国民に財やサービスを提供するはたらきは財政。したがって、正解はエ。

(2) 国境をこえてモノ、お金、情報などが自由に行き交う世界の一体化の傾向は、グローバル化（または、ボーダレス化、グローバリズム）という。解答欄に「化」があるので、正解はグローバル。

6

問1 (1) 1858年に結ばれた日米修好通商条約で開港したのは、函館、神奈川（横浜）、長崎、新潟、兵庫（神戸）の5港。したがって、正解は横浜市と神戸市。

(2) ニュージーランドはかつてイギリスの植民地であったため、資料Ⅰのように、国旗の左上にはイギリスの国旗であるユニオン・ジャックが描かれている。これは、同じオセアニア州に含まれるオーストラリア、さらにツバル、フィジー、クック諸島などの島国でも同様である。

(3) 2万5千分の1の地形図なので、等高線は10mおきに引かれていることをおさえて考える。等高線から、アは標高10~20mに位置していると読み取れ、津波が到達した際に緊急的に避難する高さとしては適当だと考えられるので、これが正解。イとウは10mの等高線よりも海側の低い位置にあるので、津波が到達した際に緊急的に避難するには適当ではない。エは標高100m以上の地点に位置しており、海側はかなりの急傾斜であることが読み取れるので、津波が到達した際に緊急的に避難するには適当ではないと考えられる。

(4) 営利を目的とせず、社会貢献活動に取り組む民間組織は非営利組織といい、英語の略称はNPOなので、正解はイ。なお、アのILOは国際連合の専門機関である国際労働機関、ウのWTOは国際連合の関連機関で世界貿易機関、エのPKOは国連平和維持活動のこと。

(5) 試合会場の名称に企業名や自社の製品名をつけると、それがくり返し観客の目や耳に入ることになるので、企業にとっては大きな宣伝効果を得ることができる。このような命名権は、ネーミング・ライツとよばれる。

問2 資料9を見ると、千葉県のだいこんは1月~6月、10月~12月に取扱数量が多い。資料10を見ると、この時期の千葉県の気温は、ほぼ5~20℃である。

同様に、青森県について資料9を見ると6月~11月に取扱数量が多い。資料10を見ると、この時期の青森県の気温は、ほぼ5~22℃である。

問3 南部鉄器は岩手県、津軽塗は青森県の伝統的工芸品である。昔から伝わる原料と技術を用いて、現在使われている器具を作ることで、伝統技能を継続させることができる。