

平成 26 年度入学者選抜学力検査問題

社 会

注 意

- 1 監督者の「始め」の合図があるまでは、開いてはいけません。
- 2 検査時間は、10時35分から11時20分までの45分間です。
- 3 大きな問題は全部で8問で、表紙を除いて7ページです。
また、別に解答用紙が1枚あります。
- 4 監督者の「始め」の合図があったら、すぐに受検番号をこの表紙と解答用紙のきめられた欄に書きなさい。
- 5 答えは、必ず解答用紙のきめられた欄に書きなさい。
また、特に指示のあるもののほかは、各問いのア、イ、ウ、エのうちから最も適当なものをそれぞれ一つ選んで、その記号を解答欄の()の中に書き入れなさい。
- 6 「に当てはまる語を書きなさい」などの問いについての答えは、一般に数字やカタカナなどで書くもののほかは、できるだけ漢字で書きなさい。
- 7 監督者の「やめ」の合図があったら、すぐやめて、筆記用具をおきなさい。

受 検 番 号

番

1 次の1, 2の問いに答えなさい。

1 次の(1)から(4)までの文中の [] に当てはまるのはどれか。

(1) 大西洋とインド洋の両方に面している国は、 [] である。

ア ロシア連邦 イ スペイン ウ インド エ 南アフリカ共和国

(2) 中臣鎌足らの協力を得て、 [] は強い勢力をもっていた蘇我氏をたおし、唐の国にならった政治体制の確立を目指した。

ア 中大兄皇子 イ 聖徳太子 ウ 天武天皇 エ 推古天皇

(3) 1932年、海軍将校たちは [] を暗殺した。この事件を五・一五事件といい、政党政治はいったん終わりを告げた。

ア 大久保利通 イ 原敬 ウ 犬養毅 エ 大隈重信

(4) 最高裁判所の裁判官に対しては、任命後はじめて行われる衆議院議員総選挙の時に、その任命の可否について、 [] が実施される。

ア 弾劾裁判 イ 国民審査 ウ 公聴会 エ 両院協議会

2 次の(1)から(4)までの文中の [] に当てはまる語を書きなさい。

(1) ヨーロッパでは、1993年、12か国により [] が発足した。2013年には、加盟国が28か国になり、国のわく組みをこえた経済的・政治的な統合が進んでいる。

(2) 気候が温暖な宮崎平野や高知平野では、ビニールハウスや温室を利用し、農作物の出荷時期を早める [] 栽培が、盛んに行われている。

(3) 江戸幕府は、大名が無断で城を修理したり、大名家どうしが許可なく結婚したりすることなどを禁止した [] という法令を定めた。

(4) 独占禁止法を運用するために設置された機関である [] は、市場の独占を予防したり、企業による不当な取引を取り締まったりしている。

2 ^{わたる}航さんは、夏休みに家族と訪れた東京駅のレンガ造りの駅舎に興味を持ち、次のようなレポートを作成した。これを読んで、1から4までの問いに答えなさい。

2012年、東京駅は約5年半の工事を終え、創建当時の姿が再現されました。1896年、新橋と上野を結ぶ中央停車場として、東京駅をつくることが②当時の議会で可決されました。

①戦争の影響もあって建設には長い年月がかかり、1914年、皇居の東側に東京駅は完成しました。当時、たくさんのレンガがどこでつくられたのかを調べてみると、主に供給していた工場は、埼玉県の深谷市にあったことがわかりました。

レンガを焼いた窯にはドイツの技術が導入されていて、現在、同様の窯は日本に数か所しか残っていません。そのうちの 하나가栃木県の野木町にあります。野木町につくられたレンガ工場は渡良瀬川に面しており、河川を輸送に利用していました。深谷市の工場も利根川などを利用しており、③関東平野の河川では、水運が盛んであったことがわかりました。その後、東京駅をはじめ、レンガでつくられた建物は、より強度の高いコンクリートにかわって

いきました。現在、コンクリートはいたるところで使われていますが、多くの建物や道路は、^{ろうきゅうか}老朽化のためにつくりかえる必要があるそうです。その際、㉑大量に発生する建設廃棄物はどのように処理されているのか、新たな興味がわいてきたので、今度調べてみたいと思いました。

- 1 下線部㉑に関して、次の(1), (2)の に当てはまる語を書きなさい。
- (1) 当時の議会は帝国議会とよばれ、衆議院と とで構成されていた。
- (2) 現在、国会は唯一の 機関として法律を制定するほか、予算の審議と議決、内閣総理大臣の指名などを主な仕事としている。
- 2 下線部㉒に関して、東京駅をつくるのが議会で可決され、完成するまでの間に日本が行ったこととして、正しいのはどれか。
- ア 長春以南の鉄道の権利などをロシアからゆずり受け、南満州鉄道株式会社を設立した。
- イ 山東省のドイツの権益を日本にゆずることなどを含む、二十一か条の要求を中国に提出した。
- ウ ロシアと樺太・千島交換条約を結び、ロシアに樺太をゆずり、千島列島を領有した。
- エ 中国の東北部に満州国を建国して、多くの国から非難され、国際連盟を脱退した。
- 3 下線部㉓に広がる、火山灰が積もってできた赤土の地層を何というか。
- 4 下線部㉔に関して、航さんは後日、建設廃棄物について調べ、**図1**、**図2**のようにまとめた。これを見て、航さんは、「平成12年以降、日本の建設廃棄物の大部分はリサイクルされている」と考えた。航さんがこのように考えた理由を**図1**、**図2**から読みとり、簡潔に書きなさい。

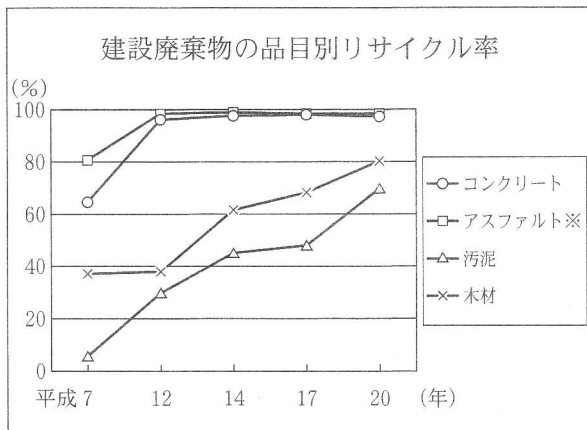


図1 (「国土交通省ホームページ」により作成)

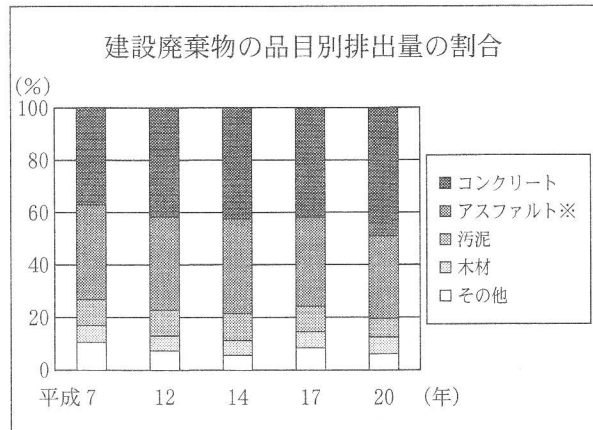


図2 (「国土交通省ホームページ」により作成)

※アスファルト…アスファルト-コンクリートのこと。道路の舗装などに使われる。

3 次の1, 2の問いに答えなさい。

1 図1は、直樹さんの住むX市の地形図の一部である。これを見て、次の(1), (2)の問いに答えなさい。

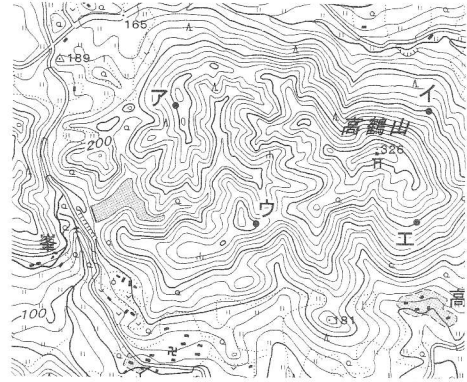


図1

(国土地理院発行2万5千分の1地形図により作成)

2 直樹さんは、2005年から2010年にかけて、X市の人口が減少している一方で、県庁所在地であるY市の人口は増加していることを知った。そこで直樹さんは、X市の特徴を、Y市との対比によって明らかにしようと考え、さまざまな統計(2010年)を図2にまとめた。図2をもとに直樹さんがまとめた文を読み、次の(1), (2), (3)の問いに答えなさい。

	面積 (km ²)	人口 (人)	65歳以上 人口 (人)	人口に占める 65歳以上 人口の割合 (%)	就業者 人口 (人)	第1次産業 就業者人口 (人)	就業者人口に 占める第1次 産業就業者人 口の割合(%)
X市	191.3	35766	11567	32.3	17340	1869	10.8
Y市	272.1	961749	198850	20.7	430838	2984	0.7

図2 (「総務省ホームページ」により作成)

～まとめ～

X市はY市より④人口や就業者人口が少ないことが読みとれます。また、人口構成を年齢別と産業別に見ていくと、X市はY市に比べて ことが読みとれます。これは、日本の多くの農村に見られる特徴と同じだと思えます。今後は、①都道府県ごとの違いにも目を向けていきたいと思えます。

(1) 下線部④に関して、次の文中の I , II に当てはまる語の組み合わせとして正しいのはどれか。

人口密度は I であり、X市の人口密度はY市よりも II 。

ア I—人口を面積で割った値 II—低い イ I—人口を面積で割った値 II—高い
ウ I—面積を人口で割った値 II—低い エ I—面積を人口で割った値 II—高い

(2) 文中の に当てはまる二つのことを、図2から読みとり、簡潔に書きなさい。

(3) 下線部①について、直樹さんが各都道府県の人口の変化を調べたところ、2010年から2011年にかけて人口が増加している都道府県が七つあることを知った。図3は、それをまとめたものであり、

図4は図3の各都道府県の位置を示した地図である。図3の に当てはまる県名を書きなさい。

人口が増加している都道府県
(人口増加率が高い順)

沖縄県、東京都、滋賀県、
埼玉県、 県、
神奈川県、愛知県

図3

(「県勢2013」により作成)

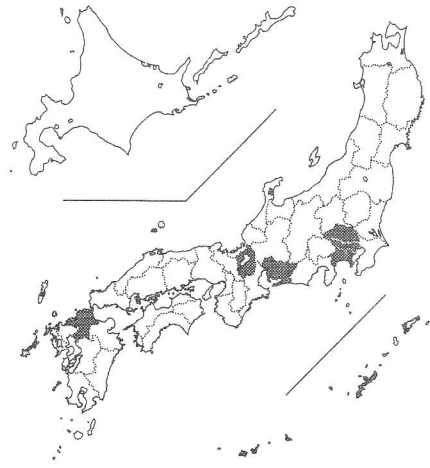


図4

4 次の1から5までの問いに答えなさい。

- 1 図1の世界最大の流域面積をもつ河川Xは何か。
- 2 図2のア、イ、ウ、エは、図1の①から④のいずれかの都市の雨温図である。④の都市の雨温図はどれか。

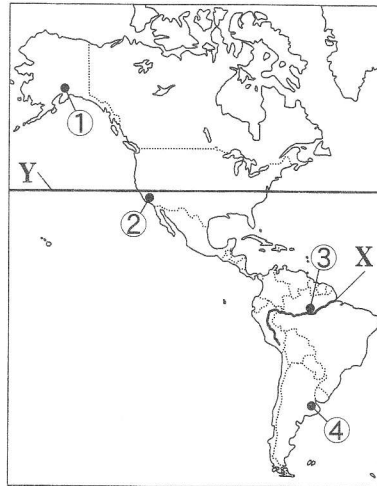


図1

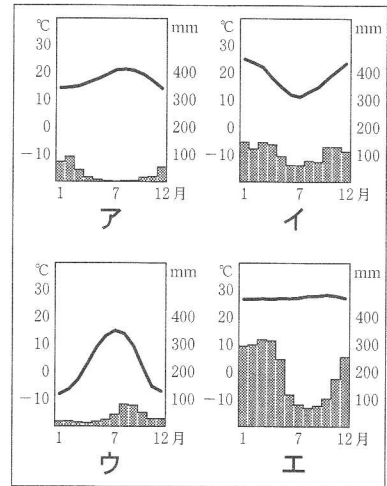


図2 (「理科年表」により作成)

- 3 図3は、1960年と2010年におけるブラジルの輸出総額と輸出総額に占める主な輸出品の割合を示したものである。図3から読みとれることを、正しく述べているのはどれか。

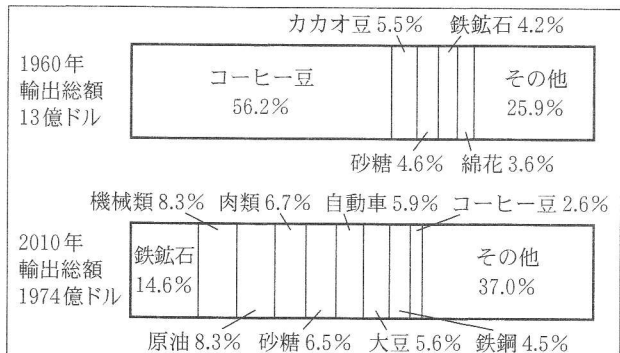


図3 (「世界国勢図会」ほかにより作成)

- ア 輸出総額は200倍以上に増加している。
- イ 輸出総額に占める鉄鉱石の割合は増加しているが、輸出額は減少している。
- ウ 輸出総額に占めるコーヒー豆の割合は減少しているが、輸出額は増加している。
- エ 輸出総額に占める工業製品の割合は、2010年においては、10%未満である。

- 4 アメリカ合衆国において1970年代以降、図1の緯線Yより南の地域に先端技術産業などが発達してきた。シリコンバレーに代表されるこの地域全体を何というか。
- 5 図4は、酪農、放牧の分布を、図5は、年平均気温の分布を、図6は、年降水量の分布を示している。酪農、放牧はそれぞれどのような地域で行われているか。図5、図6をもとに気温と降水量に着目して簡潔に書きなさい。

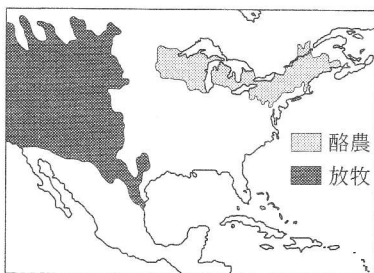


図4 (「グーズアトラス 2005」ほかにより作成)

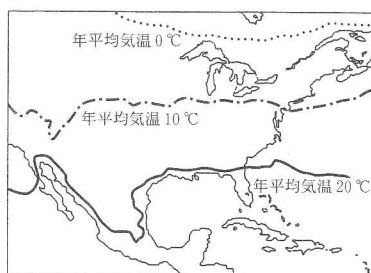


図5 (「ディルケアトラス 2004」ほかにより作成)

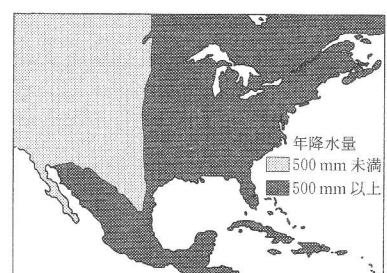


図6 (「ディルケアトラス 2004」ほかにより作成)

5

あずさ

梓さんは、日本の詩歌に興味を持ち、その歴史について調べた。次の文は梓さんが書いたまとめの一部である。これを読んで、1から5までの問いに答えなさい。

日本の詩歌にはさまざまな形態があります。日本固有の歌である和歌を集めた『』には、飛鳥時代から奈良時代までの和歌約4500首が収められており、そのなかには農民の生活の様子を詠んだ作品も含まれています。

和歌は、平安時代に京の貴族たちの教養として数多く詠まれるようになります。貴族たちが天皇や上皇の命を受けて編集した歌集は、勅撰和歌集とよばれ、最初に①『古今和歌集』が紀貫之らによって編集されました。その後も和歌は天皇や貴族たちの間で盛んに詠まれました。

鎌倉時代になると②後鳥羽上皇の命によって『新古今和歌集』が編集されました。また、和歌は武士たちにも広く詠まれるようになっていきました。この時代には和歌から派生した形態の一つである連歌が流行してきました。③室町時代になると連歌は、公家や武士だけでなく、民衆にも親しまれるようになっていきました。連歌から分化して俳諧が生まれました。江戸時代の松尾芭蕉は俳諧の芸術性を高め、多くの作品を残しました。その後、おもしろさやおかしさ、皮肉をこめた狂歌や川柳が流行し、詩歌はより多彩になっていきました。狂歌のなかには、「④世の中に蚊ほどうるさきものはなしふんぶというて夜もねられず」のように、幕府の政策を皮肉った作品もありました。

1 文中のに当てはまる語を書きなさい。

2 下線部①に関して、このころ日本で栄えた国風文化の特色を、1を例に挙げて、「中国の文化」の語を用いて簡潔に書きなさい。

安 → あ
伊 → い

図1

3 下線部②について、次の文中のに当てはまる語を書きなさい。

1221年、後鳥羽上皇は、北条氏打倒を全国の武士に呼びかけて兵を挙げたが、幕府の軍に敗れた。このできごとをという。

4 下線部③に関して、この時代の民衆の文化について述べているのはどれか。

- ア 京都で始まったかぶき踊りが流行し、三味線に合わせて語る浄瑠璃も広まった。
イ 民衆の芸能をもとにした能が大成され、合間に演じられる狂言とともに人気を集めた。
ウ 多くの小説が出版され、こっけいさを描いた小説など娯楽性の高い作品が人気となった。
エ 町人の風俗などをテーマにした浮世絵が描かれるようになり、広く愛好された。

5 下線部④の狂歌が詠まれた18世紀末には、幕府によって2のような改革が行われた。この改革の中心となった老中は誰か。

- ・文武を奨励し、武士に朱子学を学ばせた。
- ・江戸に流れ込んできた農民を村に帰した。
- ・旗本や御家人の借金を帳消しにした。

図2

6

略年表を見て、次の1から5までの問いに答えなさい。

1 Aの条約の内容として正しいのはどれか。

- ア 日本が関税自主権を回復した。
イ 日本が台湾を領有することになった。
ウ 日本は、アメリカに対し下田・函館の2港を開き、開国した。
エ 日本は、アメリカに治外法権(領事裁判権)を認めた。

年代	できごと
1858	日米修好通商条約が結ばれる……A
1871	岩倉使節団が派遣される……B
1902	日英同盟が結ばれる……①
1945	ポツダム宣言を受け入れる……C
1956	<input type="text"/> D との国交を回復する

- 2 Bの年に、政府は廃藩置県を行った。図を参考にして、版籍奉還後と廃藩置県後の地方統治の違いを「政府」の語を用いて簡潔に書きなさい。

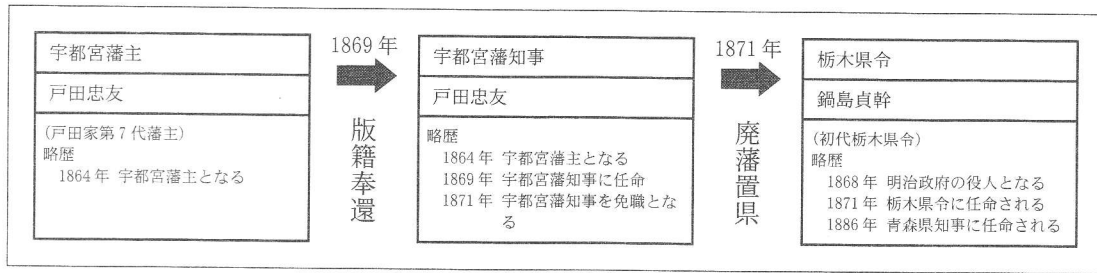


図 (「栃木県史」ほかにより作成)

- 3 次のア、イ、ウ、エは㉔の時期におきたできごとである。年代の古い順に並べなさい。
- ア 内閣制度がつくられる。 イ 民撰議院(国会)設立の建白書(意見書)が提出される。
- ウ 立憲改進黨が結成される。 エ 初めての衆議院議員選挙が行われる。

- 4 次の文中の に当てはまる語を書きなさい。

Cにより日本は降伏し、連合軍総司令部(GHQ)の指令のもと、諸改革を行った。戦前多くの企業を経営し、日本経済を支配してきた の解体が命じられ、経済の民主化が進められた。

- 5 D との国交を回復した日本は、国際連合に加盟し、国際社会に復帰した。
 D に当てはまる国はどれか。

ア 中国 イ 韓国 ウ ソ連 エ アメリカ

- 7 次の文は、綾さんが「私たちと現代社会」の学習のまとめとして、「効率と公正」に関する身近な事例について書いたレポートの一部である。これを読んで、次の1、2、3の問いに答えなさい。

政治とは利害関係を調整してものごとを決めていくことであり、㉔国内の政治と㉕国際社会での政治があるそうです。つい最近私も学校で利害関係の調整を体験しました。

先日、生徒会が文化祭で使用する教室を各クラスに割り当てたところ、三つのクラスが教室の他に体育館の使用も希望しました。そこで調整会議が行われ、私は実行委員として参加しました。三つのクラスの代表者と実行委員と担当の先生を交えてよく話し合った結果、体育館を三つのクラスで三分割して使用することに決まりました。

ものごとを決める際には「効率」や「公正」の面から検討することも大切です。今回の調整会議で決められた内容を、「効率」の面から見ると ので満たしているといえます。また、三つのクラスとも体育館を使うことに決まり、不当に不利益を被っているクラスがないので、「公正」の面でも満たしているといえます。

- 1 下線部㉔に関して、選挙の原則の一つである普通選挙の説明として正しいのはどれか。
- ア 財産や身分などに関係なく、一定の年齢に達した全国民に選挙権が与えられること。
- イ 投票した内容を、他の人に知られないようにすること。
- ウ 地方議会の解散や首長の解職の賛否を表明するために投票すること。
- エ 一定額以上の税金を納めた国民のみに選挙権が認められること。

- 2 下線部⑥に関して、次の(1), (2)の問いに答えなさい。
- (1) 国際連合の主要機関のうち、国家間の紛争に対し、国際法に基づいて審理する司法機関を何というか。
- (2) 武力紛争や、人種・宗教・国籍・政治的意見などを理由にした迫害によって、難民となった人々の保護や救援を行っている国際連合の機関はどれか。
- ア IMF イ WTO ウ APEC エ UNHCR
- 3 文中の調整会議で決められた内容について、綾さんはなぜ「効率」の面を満たしていると考えたか。文中の内容に基づいて、 に当てはまるように簡潔に書きなさい。なお、「無駄」の語を用いること。

8 図1を見て、次の1から5までの問いに答えなさい。

- 1 下線部①のとき、一般的に物価が上昇し続ける現象がみられる。これを何というか。
- 2 下線部②に関して、労働三権のうち、労働組合が賃金やその他の労働条件について、使用者と対等な立場で話し合う権利を何というか。
- 3 下線部③に関して、消費者が訪問販売や電話勧誘などで商品購入の契

	①好況時
企業	・ものがよく売れ、生産量を増やす。 ・⑥労働者の給料を上げる。
家計	・収入が増え、③消費を増やす。
政府	・公共事業を減らして、④財政の支出を減らす。
日本銀行	・金融政策の一つとして、国債などを <input type="text"/> I , 世の中に出回るお金の量を <input type="text"/> II 。

図1

- 約を結んだ場合でも、一定期間内であれば無条件で契約を解除できる制度がある。この制度を何というか。
- 4 下線部④に関して、次の(1), (2)の問いに答えなさい。
- (1) 図2は、わが国の予算(2013年度)のうち、一般会計歳出の内訳を示したものである。Aに当てはまるのはどれか。

A	国債費	地方交付税等	その他
31.4%	24.0%	17.6%	27.0%

図2 (「日本国勢図会」により作成)

ア 文教および科学振興費 イ 公共事業費 ウ 社会保障関係費 エ 防衛関係費

- (2) 図3は、一般会計歳出のうち、国債の返済にあてる国債費の割合を表したものである。国の歳出に占める国債費の割合はどのように変化しているか。また、これまで国債を発行し続けてきたことが国債費以外の歳出にどのような影響を与えているか、それぞれ簡潔に書きなさい。

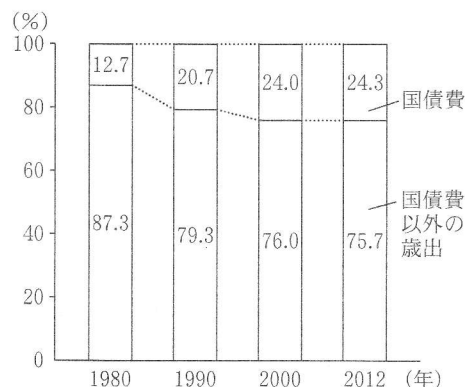


図3 (「財務省ホームページ」により作成)

- 5 図1の I , II に当てはまる語の組み合わせとして正しいのはどれか。
- ア I—買い II—増やす
イ I—買い II—減らす
ウ I—売り II—増やす
エ I—売り II—減らす